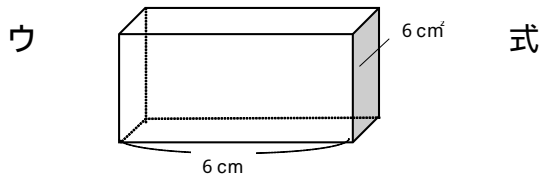
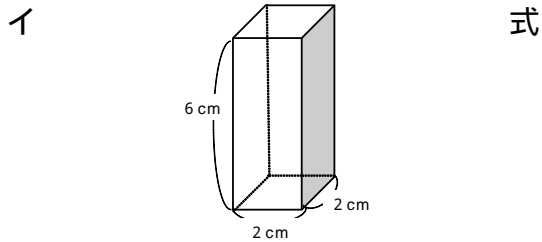
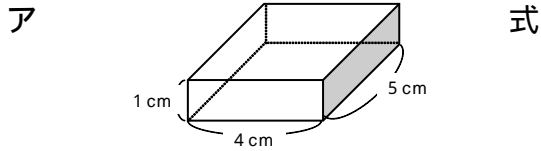


角柱と円柱の体積 角柱と円柱の体積の求め方を考えよう

学年		組		氏名	
----	--	---	--	----	--

1 問題に答えましょう。

それぞれの体積を求めて、多い順番に記号をかきましょう。



答え 大きい順

2 体積を求めましょう。

底面積や辺の長さを参考にして、式をかいて、体積を求めましょう。

