

文字と式

数量やその関係を使って式に表そう

学年

組

氏名

1 次の場面を表す式を考えましょう。

としゆきさんは、280円のプリンを x 個買って、50円の箱に入れてもらいました。

(1) 代金を y 円として、代金を求める式をかきましょう。

(式)

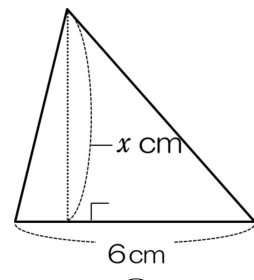
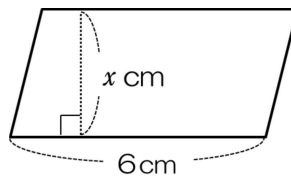
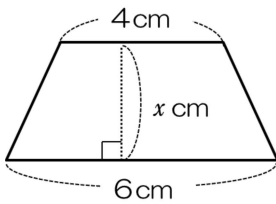
(2) 代金が2290円するとき、プリンを何個買ったことになりませんか。式と答えをかきましょう。

(式)

答え

2 次の式を見て、考えましょう。

図形の面積を $y\text{cm}^2$ とするとき、 $6 \times x \div 2 = y$ は、どの図形の面積を表す式でしょうか。図形の番号を選んで、理由をかきましょう。



いろいろな図形の求め方を、 x や y を使って、表してみよう。