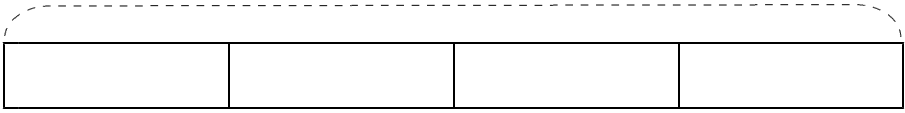


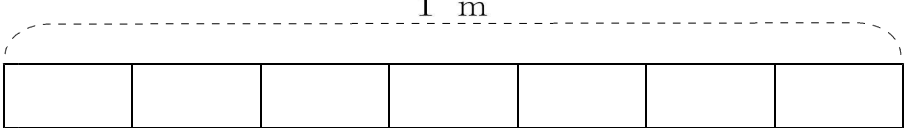
14 分数

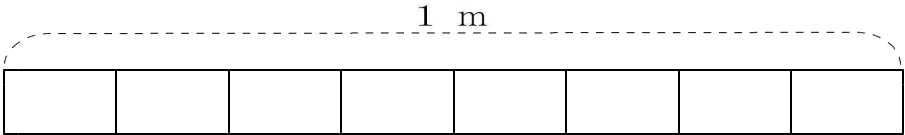


学年		組		氏名	
----	--	---	--	----	--

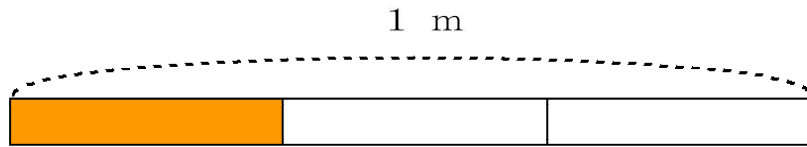
① 次の長さの分だけ色をぬりましょう。

(1) $\frac{2}{4}$ m 

(2) $\frac{4}{7}$ m 


(3) $\frac{5}{8}$ m 

② 1 mのテープを3等分した下の図を見て、(1) ~ (3)の問題に答えましょう。




- (1) 色をぬっている部分は全体のどれだけですか。()
- (2) 色をぬっている部分の長さは、何mですか。()
- (3) 色をぬっていない部分の長さは、何mですか。()


③ 下の図①~③はすべて1 Lのますを表しています。①~③の図の下にしめすかさの分だけますに色をぬりましょう。

① 

$\frac{7}{10}$ L

② 

$\frac{3}{5}$ L

③ 

$\frac{4}{7}$ L