


12 小数

学年		組		氏名	
----	--	---	--	----	--

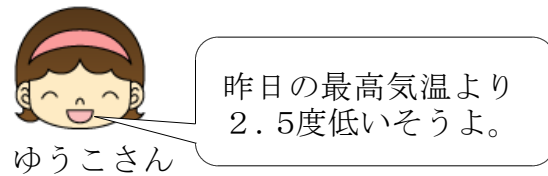
1 ひろこさんは、今日の最高気温が知りたくてゆうこさんに聞いたところ、「昨日の最高気温より2.5度低いそうよ。」といわれました。昨日の最高気温は7度でした。今日の最高気温は何度でしょうか。

<式>



今日の最高気温は何度かしら。

ひろこさん



昨日の最高気温より2.5度低いそうよ。

ゆうこさん

<答え> ()

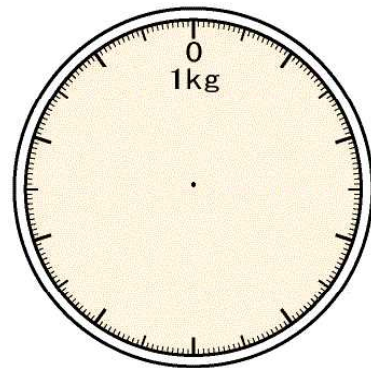

2 ひろやすさんは、自分の部屋にある石油ストーブの石油タンクに石油を入れたところ、1.8L入りました。この石油タンクには4.2Lの石油が入ります。ひろやすさんが石油を入れる前のこの石油タンクには、はじめ何Lの石油が入っていたのでしょうか。

<式>

<答え> ()

3 右下にあるりんごとみかんの重さは、それぞれ100gと50gです。同じ重さのりんご3ことみかん10こを合わせると合計何kgになりますか。また、合計した重さをしめすはりを右下の1kg用のはかりに書き入れましょう。

<式>



<答え> ()