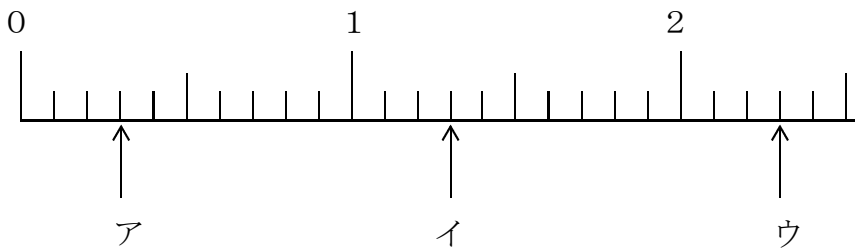
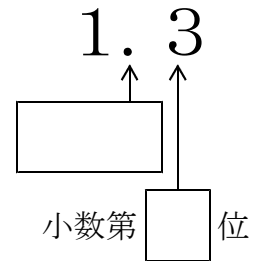
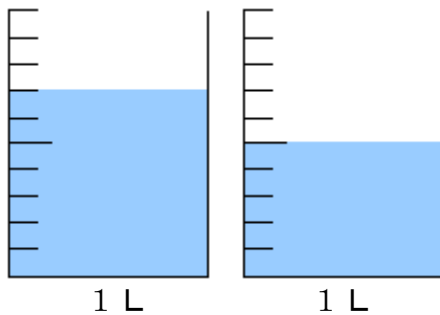


<h1>1 2 小数</h1>				
学年		組		氏名

1 右の小数について、□の中にあてはまることばや数字を漢字で書きましょう。また、下の数直線で、この小数があらわすめもりはア～ウのどれですか。その記号を○でかこみましょう。



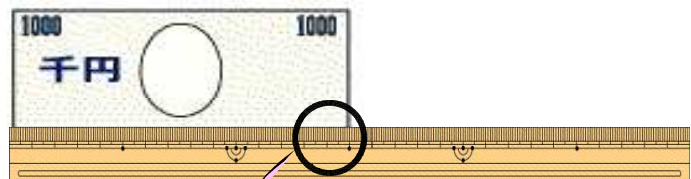
2 ペットボトルに入っているジュースを、1 L の入れ物 2 つに分けて入れたところ、下の図のようになりました。このペットボトルには何 L のジュースが入っていたのでしょうか。



<式>

<答え> (                      L )

3 右の図のように、1000円札の横の長さを、ものさしではかりました。次の文の中の(    )にあてはまる数を書きましょう。



1000円札の横の長さは  
 (                      ) cm  
 (                      ) mm  
 です。  
 ここで、1 mmは  
 (                      ) cm  
 だから、1000円札の横の長さは  
 (                      ) cm  
 となります。

