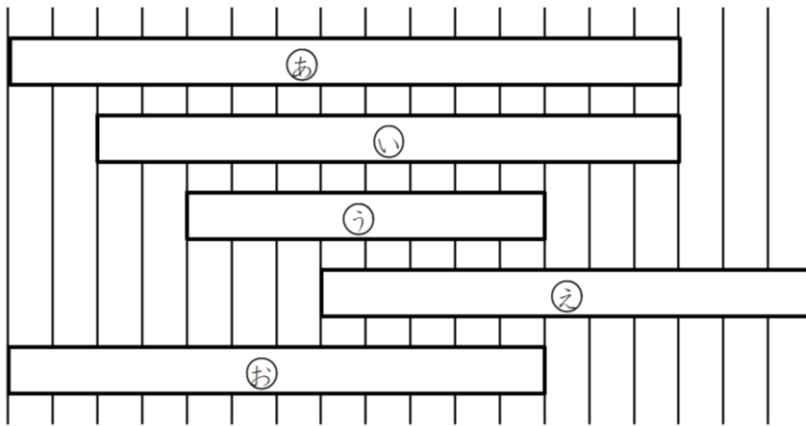




## 5 どちらがながい②

ね ん		く み		な ま え	
--------	--	--------	--	-------------	--


1 ①～④をながいじゆんにこたえましょう。



[こたえ]

\_\_\_\_\_ , \_\_\_\_\_ , \_\_\_\_\_ , \_\_\_\_\_

2 いろいろなもののながさをしらべました。



(1) つくえのよこのながさとごみばこのたかさとでは、どちらがながいですか。

[こたえ]

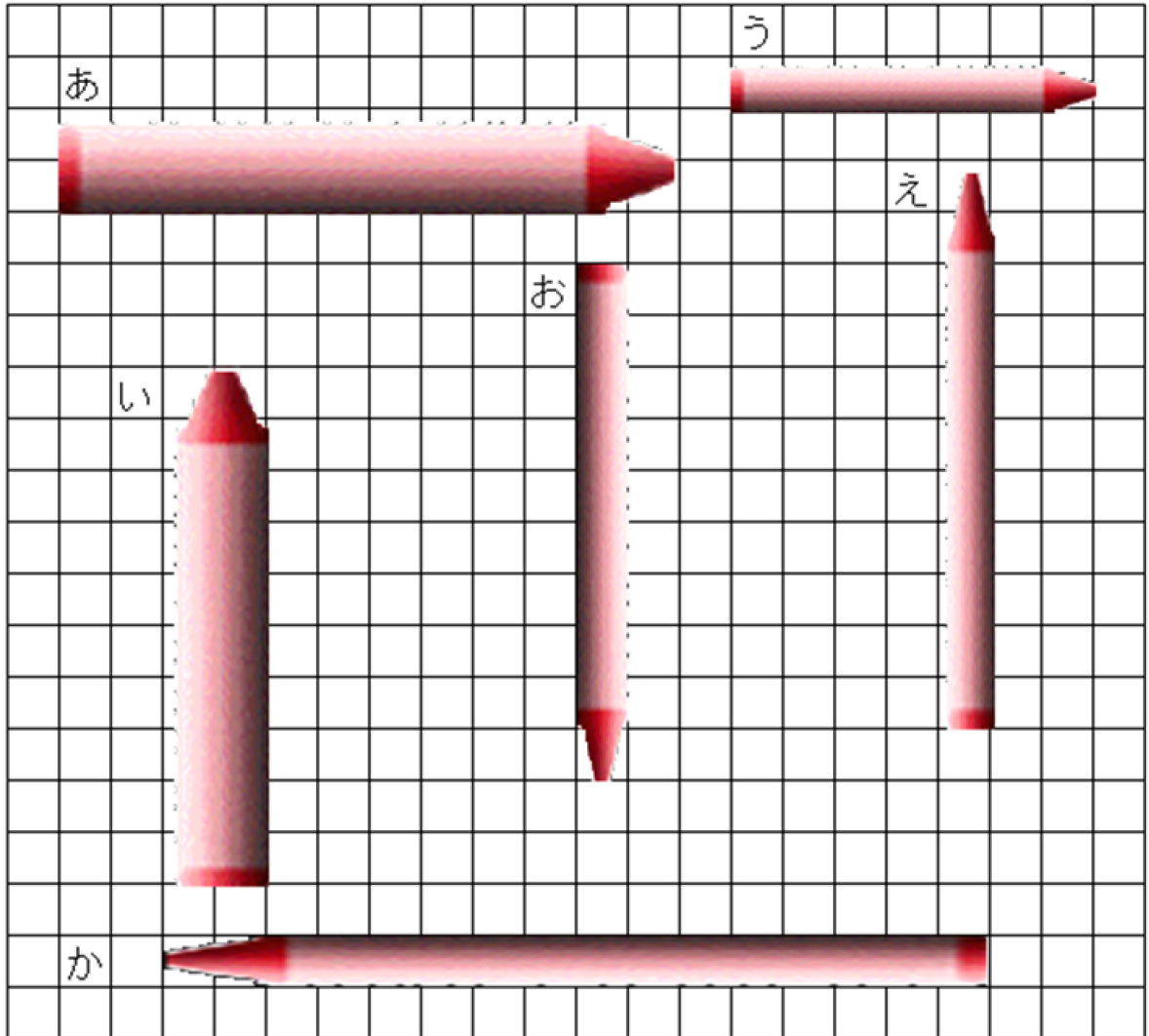
\_\_\_\_\_

(2) いちばんみじかいものはどれですか。

[こたえ]

\_\_\_\_\_

3 したの もんだいに あてはまる くれよんの きごうを こたえましょう。



	くれよんの きごう
1ばん ながい くれよん	
1ばん みじかい くれよん	
おなじ ながさの くれよん	と

4 さんすうの きょうかしよの たての ながさと よこの ながさでは どちらが ながいですか。

[こたえ]