




4 のこりはいくつ ちがいはいくつ②

ね ん		く み		な ま え	
--------	--	--------	--	-------------	--

1 しきと ことえを かきましょう。


(1) ねこが 8ひき います。そのうち 5ひき にげて しまいました。
のこった ねこは なんびき ですか。



[し き]

[ことえ]

(2) ちょうと とんぼの かずの ちがいは いくつ ですか。



[し き]

[ことえ]

2 ひまわりの はなが 9ほん あります。そのうち 2ほん ともだちに
あげました。

ひまわりの はなは なんぼん のこって いますか。

[し き]

[ことえ]

- 3 あかい ふうせんが 4こ, きいろい ふうせんが 6こ あります。
きいろい ふうせんは あかい ふうせんより なんこ おおいでしょう
か。

[し き]

[こたえ]

- 4 けいさんを しましょう。

(1) $8 - 2$

(2) $5 - 2$

(3) $9 - 8$

(4) $7 - 6$


(5) $10 - 7$

(6) $10 - 1$

- 4 えを みて もんだいに こたえましょう。

- (1) りんごは なんこ ありますか。

- (2) めろんは なんこ ありますか。



- (3) りんごと めろんでは どちらが どれだけ おおいですか。

[し き]

[こたえ]

() のほうが, () こ おおい。