



3 あわせていくつ ふえるといくつ②



| | | | | | |
|--------|--|--------|--|-------------|--|
| ね ん | | く み | | な ま え | |
|--------|--|--------|--|-------------|--|

1 あわせていくつになりますか。

(1)  と 



[しき] + =

[こたえ] こ

(2)  と 

[しき] + =



[こたえ] ひき

(3)  と 

[しき] + =

[こたえ] つ

2 ふえると いくつに なりますか。



[しき]

$$\square + \square = \square$$

[こたえ]

$$\square \text{ ひき}$$

3 たしざんを しましょう。

(1) $8 + 2$

(2) $4 + 4$

(3) $2 + 7$

(4) $5 + 4$

(5) $0 + 8$

(6) $0 + 0$

4 こたえが おなじになる かあどを せんで むすびましょう。

$$\boxed{3 + 7}$$

$$\boxed{5 + 1}$$

$$\boxed{7 + 0}$$

.

.

.

.

.

.

$$\boxed{4 + 2}$$

$$\boxed{6 + 4}$$

$$\boxed{1 + 6}$$

5 ゆきえさんは えんぴつを 7ほん もっています。

こうやさんは えんぴつを 3ほん もっています。

あわせると えんぴつは なんほんに なりますか。

[しき]

こたえ ()