
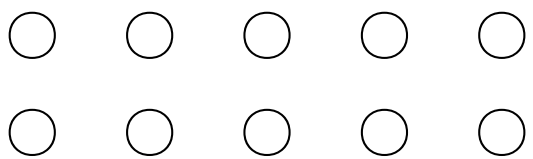

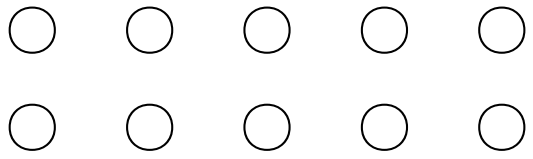

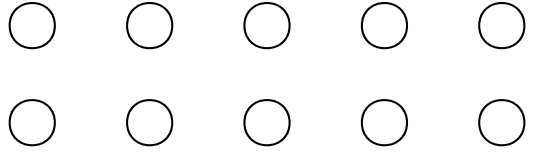


# 1 なかまづくりと かず①


ね ん		く み		な ま え	
--------	--	--------	--	-------------	--

1 えの かずだけ みぎの ○に いろをぬりましょう。


<p>(1)</p> 	
<p>(2)</p> 	
<p>(3)</p> 	

2 えの あう かずを □に かきましょう。


(1)



(2)




(3)

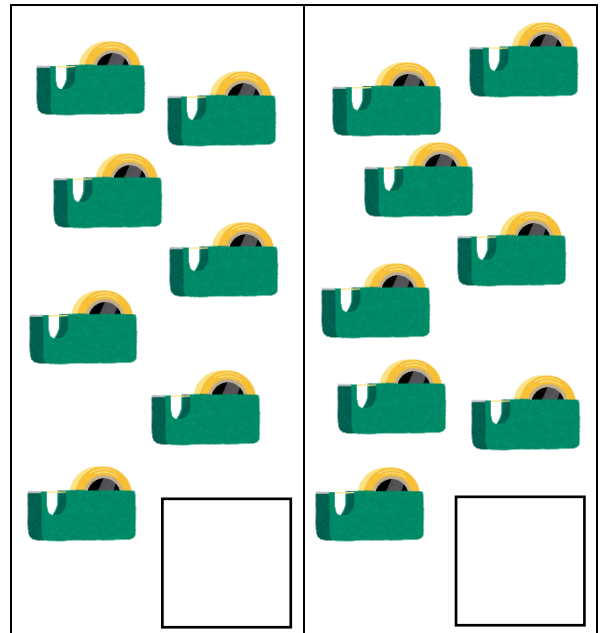


3 どちらが おおいですか。おおいほうに ○を つけましょう。

(1)



(2)



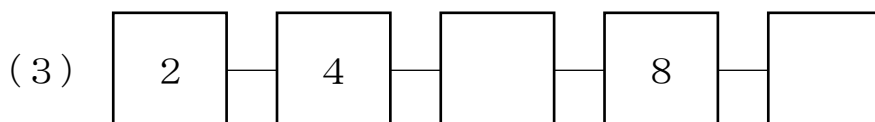
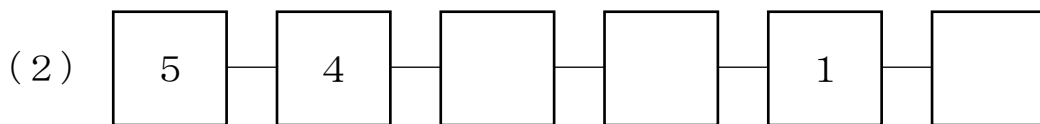
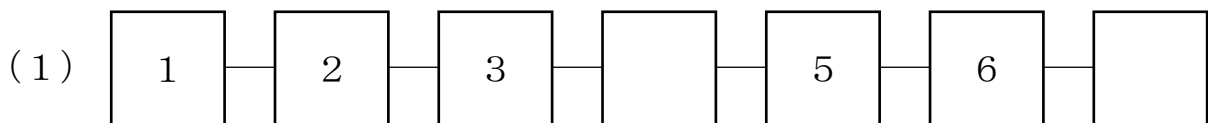
4 いちばん おおきい かずに ○を つけましょう。

(1)  ·····

(2)  ·····  ·····

(3)  ·····  ·····

5 かずの かあどを じゅんばんに ならべます。あいている かあどに かずをかきましょう。







# 1 なかまづくりと かず②

ね ん		く み		な ま え	
--------	--	--------	--	-------------	--


1 まえと うしろを あわせると いくつになりますか。□に あう かずを かきましょう。




と




で




と



で



と



で



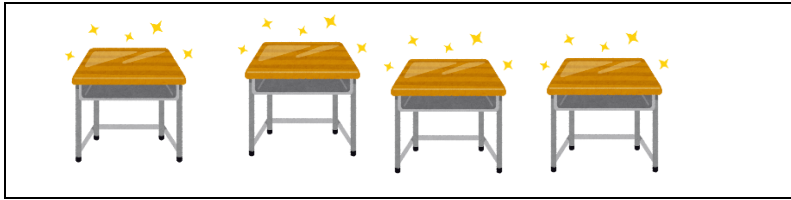


と



で

2 あと いくつで 8 に なりますか。



3 あと いくつで 10 に なりますか。□の なかに かずを かきましょう。

(れい)  と  で


(1)  と  で

(2)  と  で

4 □に あてはまる かずを かきましょう。

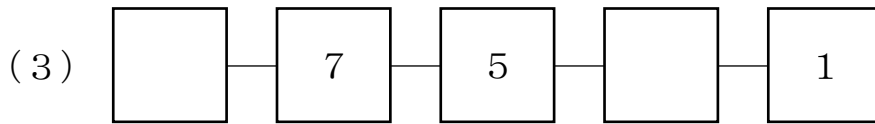
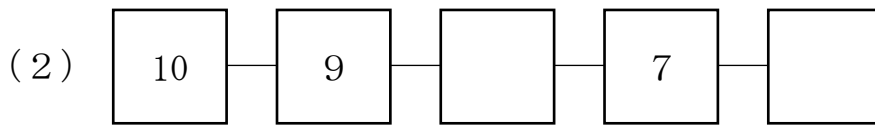
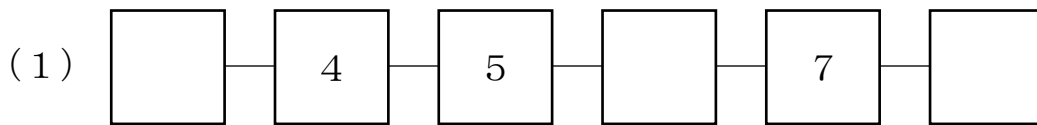
(1) 9は 2と  をあわせた かず です。

(2)  と 1を あわせると 7に なります。



1 なかまづくりと かず③				
ね ん		く み		な ま え

1 かずの かあどを じゅんばんに ならべます。□に かずを かきましょう。



2 □に あう かずを かきましょう。

(1) 6より 1 おおきい かずは  です。

(2) 8より 2 おおきい かずは  です。

(3) 9より 1 ちいさい かずは  です。

(4) 10より 3 ちいさい かずは  です。

(5) 3より 6 おおきい かずは  です。

3 □の なかにあう あてはまる かずを かきましょう。

(れい)

5 (は)	
4 (と)	1 (です)

6	
5	

7	
6	

8	
5	

9	
	4

8	
	1

10	
	2

7	
	5

4 はがきが 5まい あります。■の なかに なんまい かくれているでしょうか。

(1)

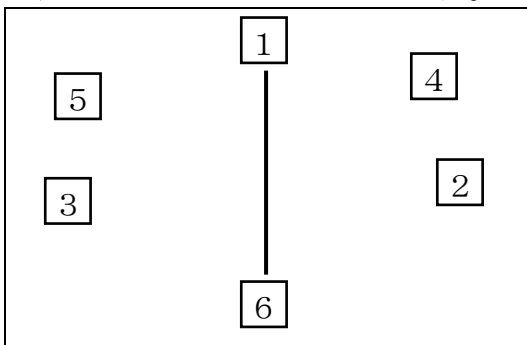
□ まい

(2)

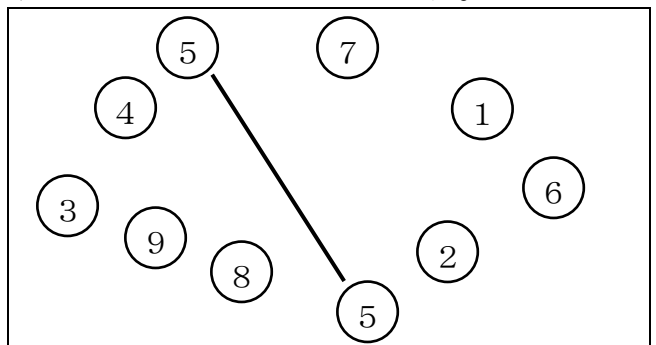
□ まい

5 せんで むすびましょう。

(1) 7をつくりましょう。



(2) 10をつくりましょう。





## 2 なんばんめ②


ね ん		く み		な ま え	
--------	--	--------	--	-------------	--

1 えを せんで かこみましよう。

(1) まえから 5ひき



(2) まえから 5ひきめ



2 えを せんで かこみましよう。

(1) まえから 4ばんめ



(2) まえから 5ばんめ



(3) うしろから 3ばんめ




(4) うしろから 5ばんめ





3 もんだいに こたえましょう。



(1) ひよこは ひだりから なんばんめに いますか。

( ) ばんめ

(2) かぶとむしは みぎから なんばんめに いますか。


( ) ばんめ

(3) ひだりから 3ばんめに いるものは 何ですか。

( )

(4) みぎから 6ばんめに いるものは 何ですか。

( )



## 2 なんばんめ③

ね ん		く み		な ま え	
--------	--	--------	--	-------------	--

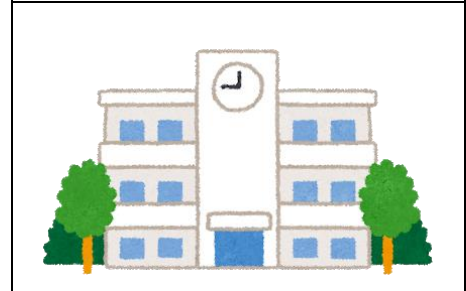

1 5まいの えを たてに かざりました。  
 に あう かずを かきましょう。

(1) うんどうかいの えは  
 したから  ばんめ です。

(2) こいのぼりの えは  
 うえから  ばんめ です。

(3) ふうるで あそんでいる えは  
 うえから  ばんめ で、  
 したから  ばんめ です。

(4) うんどうかいの えの したには  
 えが、  まい あります。



2 もんだいに こたえましょう。

(1) おにぎりは したから なんばんめに  
ありますか。

( )

(2) りんごは うえから なんばんめに ありますか。

( )

(3) したから 4ばんめには なにか ありますか。


( )

(4) くりより したに あるものの なまえを  
かきましよう。

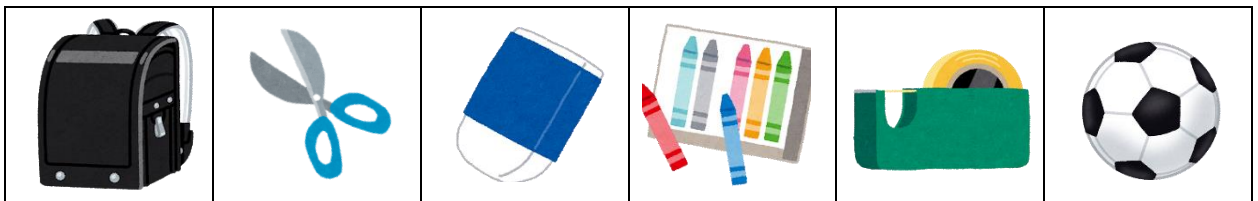
( )

(5) ぶどうより うえに あるものの なまえを  
かきましよう。

( )



2 もんだいに こたえましょう。



(1) みぎから 2ばんめには なにか ありますか。

( )

(2) ひだりから 3ばんめには なにか ありますか。

( )

(3) けしごむより ひだりに あるものの なまえを かきましよう。

( )



3 あわせていくつ ふえるといくつ②



ね ん		く み		な ま え	
--------	--	--------	--	-------------	--

1 あわせていくつになりますか。

(1)  と 



[しき]  +  =

[こたえ]  こ

(2)  と 

[しき]  +  =



[こたえ]  ひき

(3)  と 

[しき]  +  =

[こたえ]  つ

2 ふえると いくつに なりますか。



[しき]

$$\square + \square = \square$$

[こたえ]

$$\square \text{ ひき}$$

3 たしざんを しましょう。

(1)  $8 + 2$

(2)  $4 + 4$

(3)  $2 + 7$

(4)  $5 + 4$

(5)  $0 + 8$

(6)  $0 + 0$

4 こたえが おなじになる かあどを せんで むすびましょう。

$$\boxed{3 + 7}$$

$$\boxed{5 + 1}$$

$$\boxed{7 + 0}$$

.

.

.

.

.

.

$$\boxed{4 + 2}$$

$$\boxed{6 + 4}$$

$$\boxed{1 + 6}$$

5 ゆきえさんは えんぴつを 7ほん もっています。

こうやさんは えんぴつを 3ほん もっています。

あわせると えんぴつは なんぼんに なりますか。

[しき]

こたえ ( )



### 3 あわせていくつ ふえるといくつ③

ね ん		く み		な ま え	
--------	--	--------	--	-------------	--

1 3 + 2 の しきになる おはなしに ○を つけましょう。

( )

ちかこさんは あめを 3こ もっています。  
そのなかの 2こを たべました。  
のこりは なんこですか。

( )

しげるさんは まえから 3ばんめ、くみさんは うしろから 2ばんめに います。しげるさんと くみさんのあいだには こどもが 5にんいます。  
こどもは ぜんぶで なんにん いますか。

( )

りんごが 3こ あります。りんごを 2こ もらいました。  
りんごは ぜんぶで なんこになりましたか。

2 かずが おなじになる ものを せんで むすびましょう。

1 + 4	7 + 2	2 + 4	2 + 4
•	•	•	•
•	•	•	•
9	6	5	8 + 2

3 おんなのこが 3にん あるいて います。そこに おとこのこが

5にん きました。

こどもは ぜんぶで なんにんに なりますか。

[しき]

こたえ ( )




4 のこりはいくつ ちがいはいくつ②

ね ん		く み		な ま え	
--------	--	--------	--	-------------	--

1 しきと こたえを かきましょう。


(1) ねこが 8ひき います。そのうち 5ひき にげて しまいました。  
のこった ねこは なんびき ですか。



[し き]

[こたえ]

(2) ちょうと とんぼの かずの ちがいは いくつ ですか。



[し き]

[こたえ]

2 ひまわりの はなが 9ほん あります。そのうち 2ほん ともだちに  
あげました。

ひまわりの はなは なんぼん のこって いますか。

[し き]

[こたえ]

- 3 あかい ふうせんが 4こ, きいろい ふうせんが 6こ あります。  
きいろい ふうせんは あかい ふうせんより なんこ おおいでしょう  
か。

[し き]

[こたえ]

- 4 けいさんを しましょう。

(1)  $8 - 2$

(2)  $5 - 2$

(3)  $9 - 8$

(4)  $7 - 6$


(5)  $10 - 7$

(6)  $10 - 1$

- 4 えを みて もんだいに こたえましょう。

- (1) りんごは なんこ ありますか。

- (2) めろんは なんこ ありますか。



- (3) りんごと めろんでは どちらが どれだけ おおいですか。

[し き]

[こたえ]

( ) のほうが, ( ) こ おおい。





## 4 のこりはいくつ ちがいはいくつ③

ね ん		く み		な ま え	
--------	--	--------	--	-------------	--

1 おはなしと しきが あっている ものに ○を つけましょう。あつて いない ものに ×を つけましょう。

( )

きんぎょが 5ひき います。そこに あたらしく 3ひき いれました。  
きんぎょは ぜんぶで なんびき いますか。  
【しき】  $5 - 3$

( )

いちごを 2こ たべました。さいしょ いちごは 10こ ありました。  
のこりの いちごは なんこですか。  
【しき】  $2 - 10$

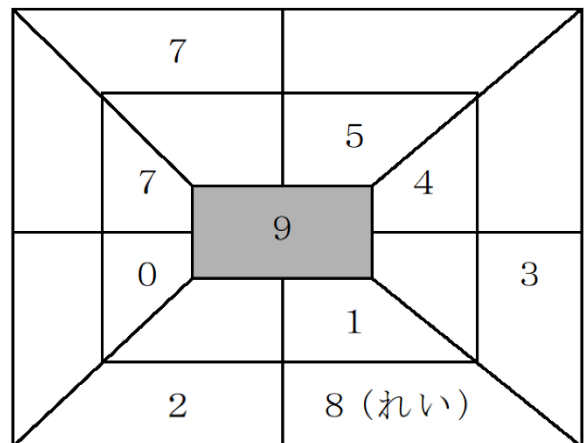
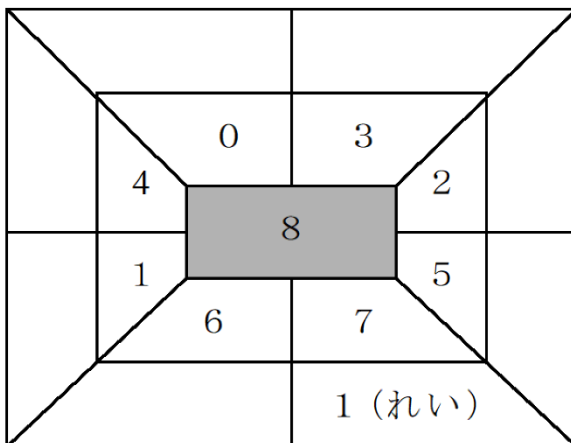
( )

はとが 3わ います。すずめは 9わ います。  
はとと すずめの ちがいは なんわですか。  
【しき】  $3 - 9$

( )

6と10の ちがいは いくつですか。  
【しき】  $10 - 6$

2 まんなかの かずから そとの かずを ひいた こたえを かいていま す。あいている ところに かずを かきましょう。



3 つぎの ぶんを かずの しきで あらわしましょう。

(1) 10 ひく 3 は 7 です。

(2) 7 と 4 の ちがいは 3 です。

(3) 9 この あめから 7 こを とると  
2 こ のこります。

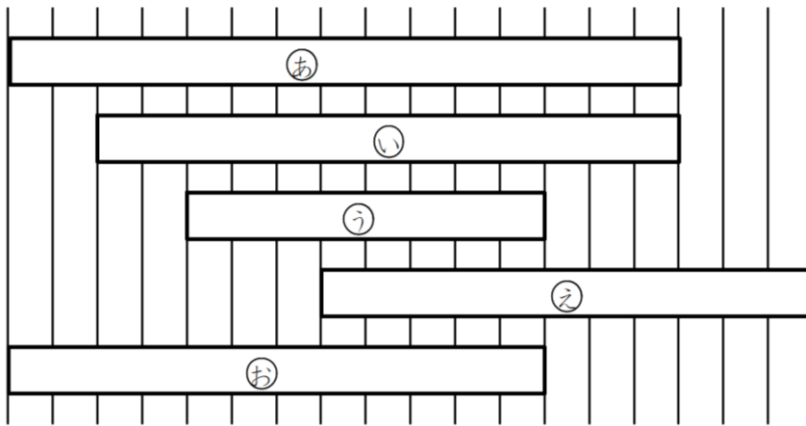
(4) 2 と 8 の ちがいは 6 です。



## 5 どちらがながい②

ね ん		く み		な ま え	
--------	--	--------	--	-------------	--


1 ①～④をながいじゆんにこたえましょう。



[こたえ]

\_\_\_\_\_ , \_\_\_\_\_ , \_\_\_\_\_ , \_\_\_\_\_

2 いろいろなもののながさをしらべました。



(1) つくえのよこのながさとごみばこのたかさとでは、どちらがながいですか。

[こたえ]

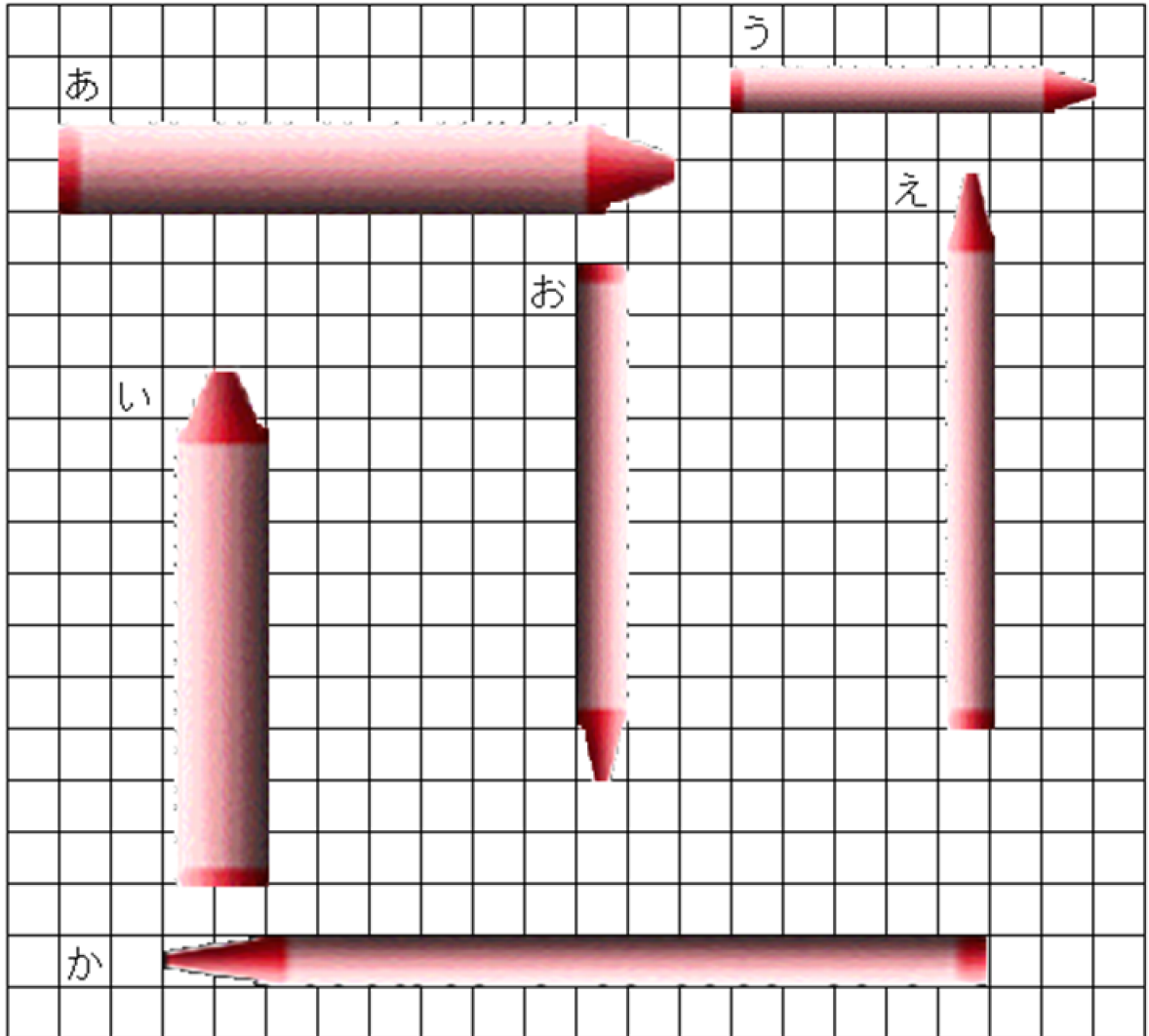
\_\_\_\_\_

(2) いちばんみじかいものはどれですか。

[こたえ]

\_\_\_\_\_


3 したの もんだいに あてはまる くれよんの きごうを こたえましょう。



	くれよんの きごう
1ばん ながい くれよん	
1ばん みじかい くれよん	
おなじ ながさの くれよん	と

4 さんすうの きょうかしよの たての ながさと よこの ながさでは どちらが ながいですか。

[こたえ]

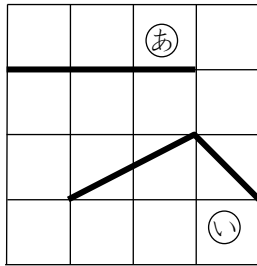


5 どちらがながい③

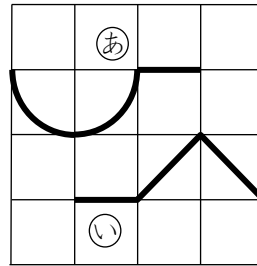
ね ん		く み		な ま え	
--------	--	--------	--	-------------	--

1 ㊦と㊧で、どちらがながいでしょう。

(1)




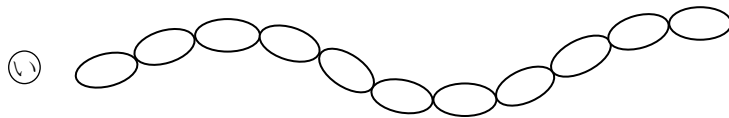
(2)



こたえ

こたえ

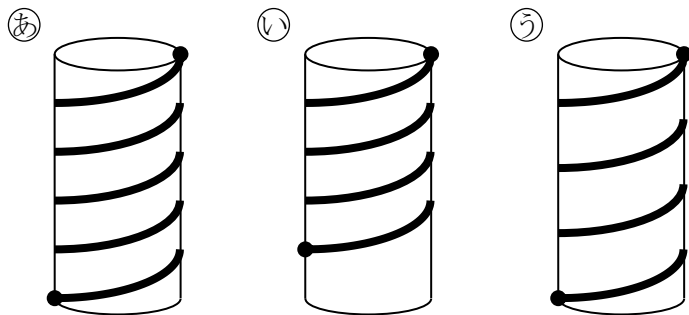
2 ○をつなぎました。いちばんながいのはどれでしょう。また、いちばんみじかいのはどれでしょう。



こたえ


いちばんながいのは	,	いちばんみじかいのは
-----------	---	------------

3 つみきに ひもを まきました。  
いちばん ながい ひもは どれでしょう。  
つみきは ぜんぶ おなじです。




こたえ

4 つみきに ひもを まきました。  
いちばん ながい ひもは どれでしょう。  
つみきは ぜんぶ おなじです。



こたえ



# 6 わかりやすく せいり しよう①

ね ん		く み		な ま え	
--------	--	--------	--	-------------	--

1 それぞれの のりものは なんだいありますか。

きゅうきゅうしゃ	オートバイ	じてんしゃ	しょうぼうしゃ
(       ) だい	(       ) だい	(       ) だい	(       ) だい

2 それぞれの のりものは なんだいありますか。



きゅうきゅうしゃ	バス	オートバイ	じてんしゃ	しょうぼうしゃ
だい	だい	だい	だい	だい



# 6 わかりやすく せいり しょう②

ね ん		く み		な ま え	
--------	--	--------	--	-------------	--

1 したの えは、 たかしさんの いえで 1しゅうかんで たべた りんごです。



[にちようび]



[げつようび]



[かようび]



[すいようび]



[もくようび]



[きんようび]



[どようび]


(1) りんごを なんようびに なんこ たべたか かきましよう。

にち ようび	げつ ようび	か ようび	すい ようび	もく ようび	きん ようび	ど ようび
こ	こ	こ	こ	こ	こ	こ

(2) たべたりんごの かずだけ いろを ぬりましよう。

○	○	○	○	○	○	○
○	○	○	○	○	○	○
○	○	○	○	○	○	○
○	○	○	○	○	○	○
○	○	○	○	○	○	○
○	○	○	○	○	○	○
○	○	○	○	○	○	○
○	○	○	○	○	○	○
○	○	○	○	○	○	○
○	○	○	○	○	○	○
にち ようび	げつ ようび	か ようび	すい ようび	もく ようび	きん ようび	ど ようび





## 6 わかりやすく せいり しよう③

ね ん		く み		な ま え	
--------	--	--------	--	-------------	--


1 たべた みかんの かずを □で あらわしました。

(1) ~ (7) の ( ) に あてはまる ことばや かずを かきましょう。

さやかさんが たべた みかんの かず (こ)

□ □ □	□		□	□ □ □ □
げつようび	かようび	すいようび	もくようび	きんようび


- (1) げつようび には、みかんを ( ) こ たべました。
- (2) みかんを 1 こ たべたのは、( ) ようび と ( ) ようび です。
- (3) 1 ばん おおく みかんを たべたのは、( ) ようび です。  
( ) こ たべました。
- (4) みかんを 1 こも たべなかったのは、( ) ようび です。
- (5) かようびと くらべると、きんようびに たべた みかんの かずは、( ) こ おおいです。
- (6) げつようびと くらべると、かようびに たべた みかんの かずは、( ) こ すくないです。
- (7) げつようびから きんようびまでに、みかんを ぜんぶで ( ) こ たべました。



7 10より おおきい かず①

ね ん		く み		な ま え	
--------	--	--------	--	-------------	--


1 えを かぞえて かずを ○で かこみましょう。



17      18      19



10      11      12



15      16      17

2 おおきいほうに ○を つけましょう。

(1)

(2)

3 あてはまる かず を  に かきましよう。

(1) 10と 3 で  に なります。

(2) 17は 10と  を あわせた かず です。

4  は いくつ ですか。

(1) 13に 1を たした かず

$$13 + 1 = \text{$$


(2) 14から 1を ひいた かず

$$14 - 1 = \text{$$



7 10より おおきい かず②

ね ん		く み		な ま え	
--------	--	--------	--	-------------	--

1  は ひだり から なんばんめに ありますか。



(            ) ばんめ

2 おおきい ほうの かずを ○で かこみましょう。

- (1)                         (2)
- (2)                         (4)

3 あてはまる かずを  に かきましょう。

(1) 10と 10 で

(2) 19は 10と

(3) 16は  と 10

(4) 18は  と 10

4 あてはまる かずを  に かきましょう。

(1)  15   17

(2)   19  18

(3)  8  10  12   16

(4)  20  18   14

5  に かずを かきましょう。

(1) 11に 2を たした かず  
 $11 + 2 =$


(2) 16に 3を たした かず  
 $16 + 3 =$

(3) 12に 7を たした かず  
 $12 + 7 =$

(4) 15から 5を ひいた かず  
 $15 - 5 =$

(5) 17から 5を ひいた かず  
 $17 - 5 =$

(6) 19から 6を ひいた かず  
 $19 - 6 =$



# 7 10より おおきい かず③

ね ん		く み		な ま え	
--------	--	--------	--	-------------	--

1 つぎの かずを おおきい じゅんに ならびかえて  の  
なかに かきましょう。

(1) 10      20      15      9      12      18

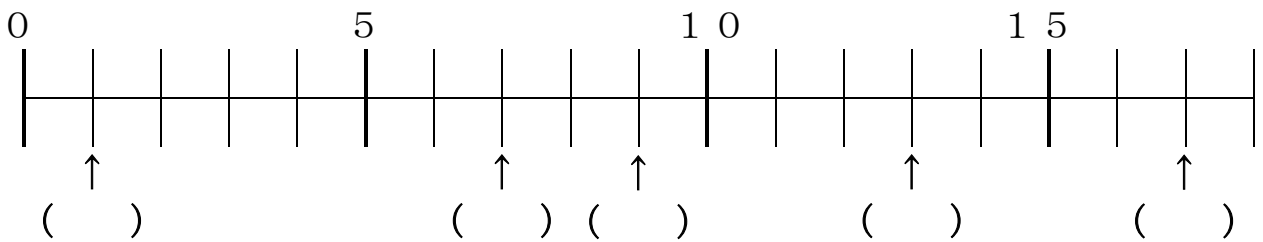
,                      ,                      ,                      ,                      ,
---

(2) 2      20      11      8      0      10

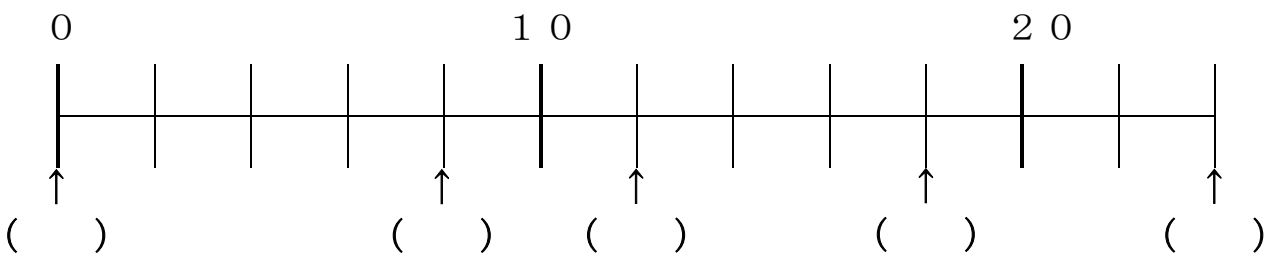
,                      ,                      ,                      ,                      ,
---

2 やじるしの かずを (      ) に かきましょう。

(1)



(2)



3

にあう かずをかきましょう。

(1) 12より 5 おおきい かずは  です。

(2) 15より 4 おおきい かずは  です。

(3) 18より 2 ちいさい かずは  です。

(4) 20より 9 ちいさい かずは  です。

(5) 20より 1 ちいさい かずは  です。

(6) 9より 1 おおきい かずは  です。

4

けいさんを しましょう。

(1)  $13 + 4$

(2)  $11 + 7$

(3)  $18 - 5$

(4)  $12 + 4$

(5)  $16 - 2$


(6)  $19 - 9$

(7)  $13 + 6$

(8)  $14 - 3$

(9)  $15 + 4$

(10)  $17 - 3$

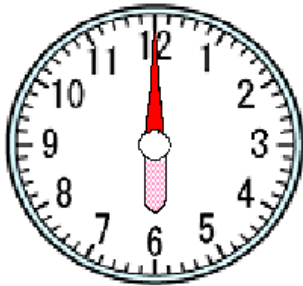


# 8 なんじ なんじはん①

ね ん		く み		な ま え	
--------	--	--------	--	-------------	--

1 とけいを よみましょう。

(1)



( )

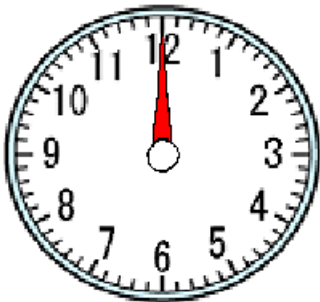


(2)



( )

2 みじかい はりを かきましょう。



3じ



3 10じの とけいは (あ) と (い) の どちらですか。

(あ)



(い)



( )





# 8 なんじ なんじはん②

ね ん		く み		な ま え	
--------	--	--------	--	-------------	--

1 とけいを よみましょう。

(1)



( )


(2)



( )

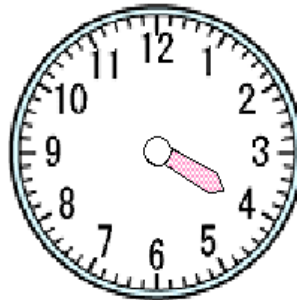
2 ながい はりを かきましょう。

(1)



10じはん

(2)



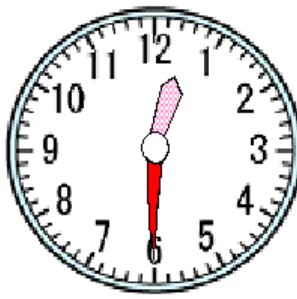
4じ

3 12じはんの とけいは (あ) と (い) の どちらですか。

(あ)



(い)



( )



9 3つのかずのけいさん②

ね ん		く み		な ま え	
--------	--	--------	--	-------------	--

1 けいさんを しましょう。

(1)  $2 + 1 + 3$

(2)  $4 + 2 + 3$

(3)  $7 + 3 + 5$

(4)  $9 - 3 - 6$

(5)  $12 - 2 - 4$

(6)  $14 - 4 - 5$

(7)  $8 + 2 - 3$

(8)  $17 - 7 + 3$

(9)  $3 + 7 - 5$

(10)  $17 - 7 - 4$

2 えんぴつを 5ほん もっています。おにいさんから 2ほんもらいました。そのあとに おかあさんから 3ほん もらいました。

えんぴつは ぜんぶで なんほんに なりましたか。

しき

こたえ

3 クッキーが 12こ あります。10じに 2こ たべました。3じに 4こ たべました。

のこりの クッキーは なんこ ですか。

しき

こたえ

4 ばすに 15にんのおきやくさんが のっています。

はじめに 5にん おりました。つぎに 3にん のりました。

いま、ばすの なかには なんにん のっていますか。

しき

こたえ

5  $6 - 3 + 1$ の しきになる おはなしに ○をつけましょう。

( ) うさぎごやに うさぎが 6ぴき います。  
つぎのひ 3ぴき ふえました。その つぎのひに  
1ぴき ふえました。  
ぜんぶで うさぎは なんぴきに なりましたか。

( ) あめが 6こ あります。3こ たべました。  
のこりは なんこですか。

( ) こうじさんは おはじきを 6こ もっています。  
けんじさんに 3こ あげました。  
そのあとに くみさんから 1こ もらいました。  
こうじさんの おはじきは なんこに なりましたか。

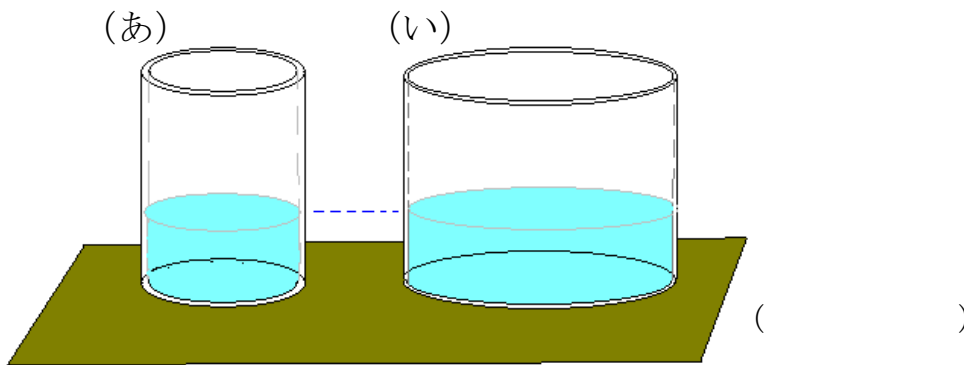
( ) あかい はなが, 3ぽん さいています。  
しろい はなが, 1ぽん さいています。  
はなは, ぜんぶで なんぽん さいていますか。




# 10 どちらが おおい②

ね ん		く み		な ま え	
--------	--	--------	--	-------------	--

1 どちらに おおく みずが はいっていますか。



2 どちらに おおく みずが はいっていますか。




3 いちばん おおく みずが はいるのは どれですか。

(あ) きゅうしょくのおわん

(い) ばけつ

(う) すいとう

( )



11 たしざん①	13 ひきざん①	
ねん	くみ	なまえ

1 けいさんを しましょう。

(1)  $9 + 4$

(2)  $8 + 3$

(3)  $7 + 6$

(4)  $6 + 5$

2 けいさんを しましょう。

(1)  $13 - 9$

(2)  $12 - 9$

(3)  $14 - 8$

(4)  $11 - 7$

3 キャンディーが 15こ あります。

そのうち 7こ たべると のこりは なんこ ですか。

しき

こたえ



11 たしざん② 13 ひきざん②

ね ん		く み		な ま え	
--------	--	--------	--	-------------	--

1 けいさんを しましょう。

(1)  $9 + 7$

(2)  $11 - 5$

(3)  $18 - 9$

(4)  $7 + 7$

(5)  $8 + 4$

(6)  $16 - 9$

(7)  $12 - 7$

(8)  $6 + 7$

2 けいさんを しましょう。

(1)  $8 + 7 - 9$

(2)  $12 - 8 + 7$

3 えんぴつを 3ぼん もっています。あたらしく 9ほん  
かって もらいました。

えんぴつは ぜんぶで なんぼんに なりましたか。

しき


こたえ

4 すいそうに きんぎょが 11ぴき います。そのうち  
5ひきを べつの すいそうへ うつしました。

はじめの すいそうには なんびき のこっていますか。

しき

こたえ



11 たしざん③ 13 ひきざん③

ね ん		く み		な ま え	
--------	--	--------	--	-------------	--

1 7 + 5 のけいさんのしかたをせつめいします。□□□□□□□□に

あてはまるかずをこたえなさい。

(1) □□□□□□□□      ■■■■■■

(2) □□□□□□□□      ■■■■      ■■

(3) □□□□□□□□■■■■      ■■

(4) □□□□□□□□□□      ■■

(1) 7はあ□□□□で10になります。

(2) □□□□を□□□□と□□□□にわけます。

(3) □□□□と□□□□で10になります。

(4) □□□□と□□□□でこたえは□□□□になります。

2 ひろしくんは おりがみを 9まい もっています。くみさんは 5まい もっています。

(1) ふたりの おりがみを あわせると、なんまいになりますか。

[しき]

[こたえ]

(2) ふたりの おりがみの ちがいは なんまいですか。

[しき]

[こたえ]

(3) ひろしくんは、おりがみを 3まい つかいました。

おりがみは、あと なんまい のこっていますか。

[しき]

[こたえ]

(4) くみさんは、おりがみを ともだちに あげたので、  
2まいしか のこっていません。ともだちに あげた  
おりがみは、なんまい ですか。

[しき]

[こたえ]





# 12 かたち あそび②

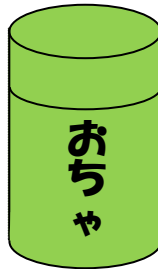
ね ん		く み		な ま え	
--------	--	--------	--	-------------	--

1 つぎの①～⑥の えの なかで、はこの かたちは どれですか。  
ぜんぶ こたえましょう。

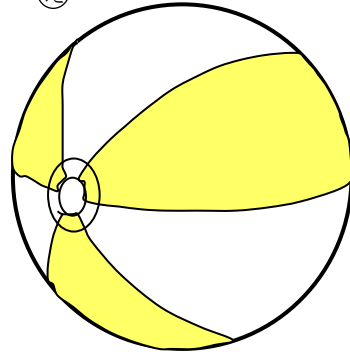
①



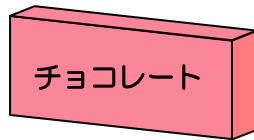
②



③



④



⑤



⑥



⑦



⑧

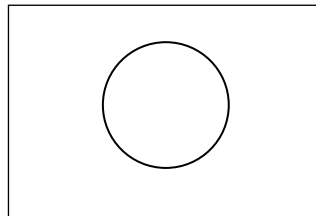
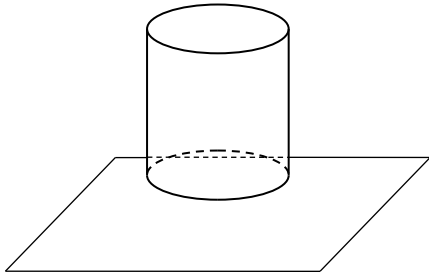


はこの かたちは

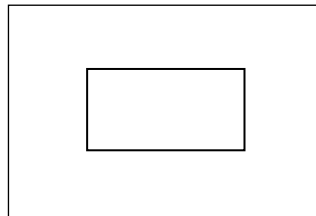
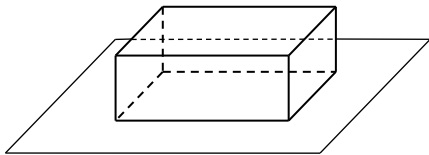
2 つぎの えの ように つみきを つかって、 かみに かたちを  
うっしました。(1)~(3)の なかに まちがいが ひとつ  
あります。

それは どれでしょう。

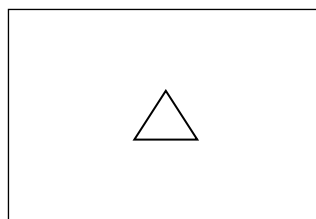
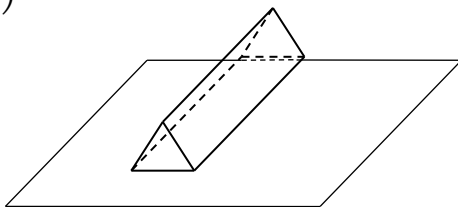
(1)




(2)




(3)



まちがいは





# 14 おおきい かず②

ね ん		く み		な ま え	
--------	--	--------	--	-------------	--

1  にあてはまる かずをかきましょう。

(1) 10が9こと1が7こで

(2) 10が6こで

(3) 86は10が  こと1が  こ

(4) 90は  が9こ

2  にあてはまる かずをかきましょう。

(1) 十のくらいが3, 一のくらいが8の かずは

(2) 十のくらいが6, 一のくらいが2の かずは

(3) 70の 十の くらいの すうじは , 一の くらいの  
すうじは

3  にあてはまる かずをかきましょう。

(1) 45より5おおきい かずは

(2) 90より10ちいさい かずは

4  にあてはまる かずをかきましょう。

(1)  94   96 97  99

(2)  40   60   90


(3)  5  10   20    35

5 おおきいほうの かずに ○をつけましょう。

(1) ( 58, 85 )

(2) ( 32, 23 )

(3) ( 70, 69 )



# 14 おおきい かず③

ね ん		く み		な ま え	
--------	--	--------	--	-------------	--

1 ちいさいじゅんにならべましょう。

(1) 50 20 40 10 30

	,		,		,	
--	---	--	---	--	---	--

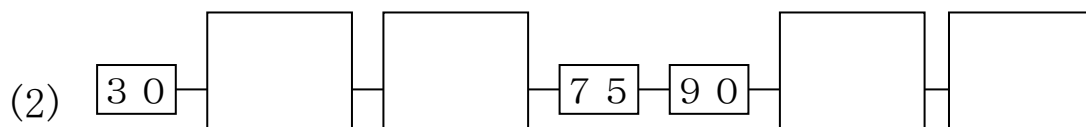

(2) 99 93 95 91 97 89

	,		,		,	
--	---	--	---	--	---	--

(3) 110 115 105 90 100 95

	,		,		,	
--	---	--	---	--	---	--

2  にあてはまる かずをかきましょう。



3 1 2 3 4 5 の 5まいの カードのうち 2まいを  
つかって 10より おおきいかずをつくります。


つぎの かずを こたえましょう。

(1) いちばん ちいさい かずは

(2) いちばん おおきい かずは

(3) 十のくらいが 4のかずで、2ばんめに おおきい  
かずは

(4) 34に いちばん ちかい かずは



15 どちらが ひろい①

ね ん		く み		な ま え	
--------	--	--------	--	-------------	--

1 したの かずだけ いろを ぬりましょう。

(1)


8こ

(2)


6こ

2 ひろいのは どちらですか。

	あ					い			

こたえ ( )


3 いちばん ひろいのは どれですか。

	あ				
					え
		う			
い					
					お

こたえ ( )





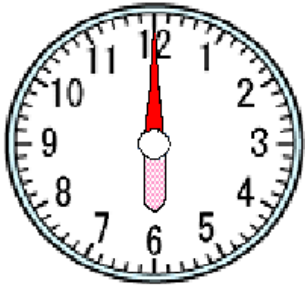


16 なんじ なんぷん①

ね ん		く み		な ま え	
--------	--	--------	--	-------------	--

1 したの とけいを よみましょう。

(1)



( )

(2)



( )

(3)



( )

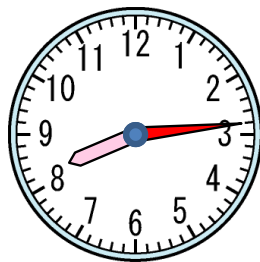
2 せんで むすびましょう。



.

.

6じ38ぷん



.

.

3じ51ぷん



.

.


9 : 24



.

.

8 : 14




# 16 なんじ なんぷん②

ね ん		く み		な ま え	
--------	--	--------	--	-------------	--

1 ながい はりを かきましょう。


(1) 11じ




(2) 4じ




(3) 10じ30ぷん



(4) 5じ46ぷん



(5) 3じ37ぷん





# 17 たしざんと ひきざん②

ね ん		く み		な ま え	
--------	--	--------	--	-------------	--

1 るみさんは ゆうえんち に きました。  
 コーヒーカップに のるのに なんにんか ならんでいます。  
 るみさんは、まえから 3にんめに います。るみさんの  
 うしろに 4にん います。  
 みんなで なんにん ならんでいますか。



しき       ことえ

2 ジェットコースターに 15にん のっています。  
 りつこさんは、まえから 7にんめに います。  
 りつこさんの うしろに なんにん いますか。

しき       ことえ

3 3にんが 1こずつ バッジを つけています。バッジは あと  
 4こ あります。  
 バッジは、ぜんぶで いくつ ありますか。



しき       ことえ

- 4 チョコレートを 11こ かいました。ガムは、  
チョコレートより 5こ おおく かいました。  
ガムは、なんこ かいましたか。


チョコレート ●●●●●●●●●●●●●●  
ガム ○○○○○○○○○○○○○○○○○  
おおい

しき                       ことえ

- 5 あさがおを 12ほん うえました。チューリップは、あさがお  
より 5ほん すくなく うえました。  
チューリップは なんほん うえましたか。

あさがお ●●●●●●●●●●●●●●  
チューリップ ○○○○○○○○○○○○○○○  
すくない

しき                       ことえ



## 17 たしざんと ひきざん③

ね ん		く み		な ま え	
--------	--	--------	--	-------------	--

- 1 こどもが 1れつに ならんでいます。てるひこさんは  
まえから 7にんめで，うしろから 3にんめ です。  
こどもは ぜんぶで なんにん ならんでいますか。

<しき>

こたえ ( )

- 2 こうじさんは おともだち 3にんに あめを 2つずつ  
くばったら，1こ ありました。  
こうじさんは はじめに あめを ぜんぶで なんこ もって  
いましたか。


<しき>

こたえ ( )

- 3 けんじさんは あめと ガムと チョコレートを かいました。  
あめは15こ かいました。ガムは，あめより 6こ すくなく か  
いました。チョコレートは，ガムより 3こ すくなく かいました。  
チョコレートは，なんこ かいましたか。

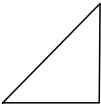
<しき>

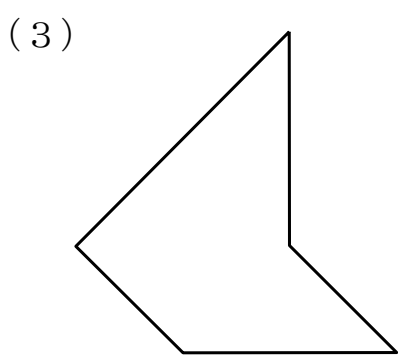
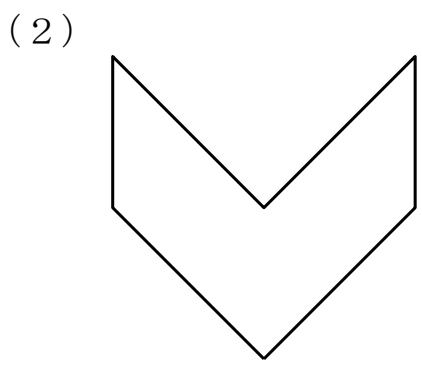
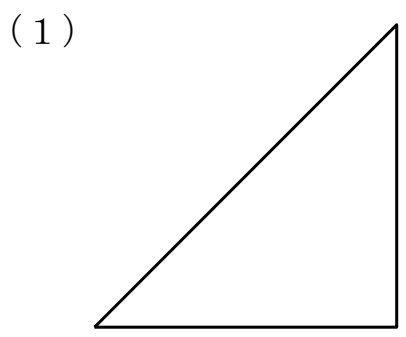
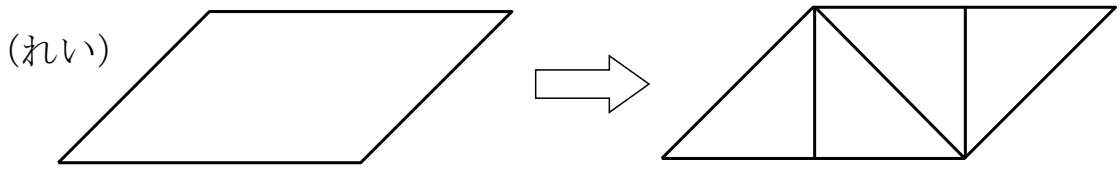
こたえ ( )



# 18 かたちづくり①

ね ん		く み		な ま え	
--------	--	--------	--	-------------	--

1 いろいろ  4まいで、したのかたちをつくりましょう。  
できたら せんせいや おうちのひとに みてもらいましょう。



2 かぞえぼうで、したのかたちをつくりましょう。できたら  
せんせいや おうちのひとに みてもらいましょう。

(1) ロケット

(2) いえ

(3) さかな

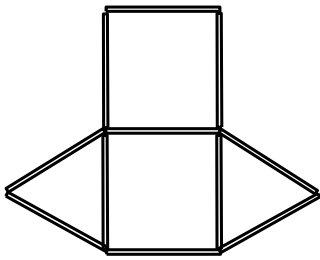


# 18 かたちづくり②

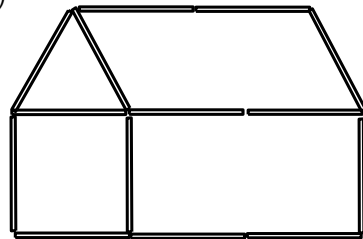
ね ん		く み		な ま え	
--------	--	--------	--	-------------	--

1 かぞえぼうで かたちを つくりました。かぞえぼうは なんぼん  
つかっているでしょう。

(1)



(2)



2 ・と・を せんで つないで したの かたちを つくりましょう。

できたら せんせいや おうちのひとに みてもらいましょう。

(1) ヨット

(2) ひこうき

