

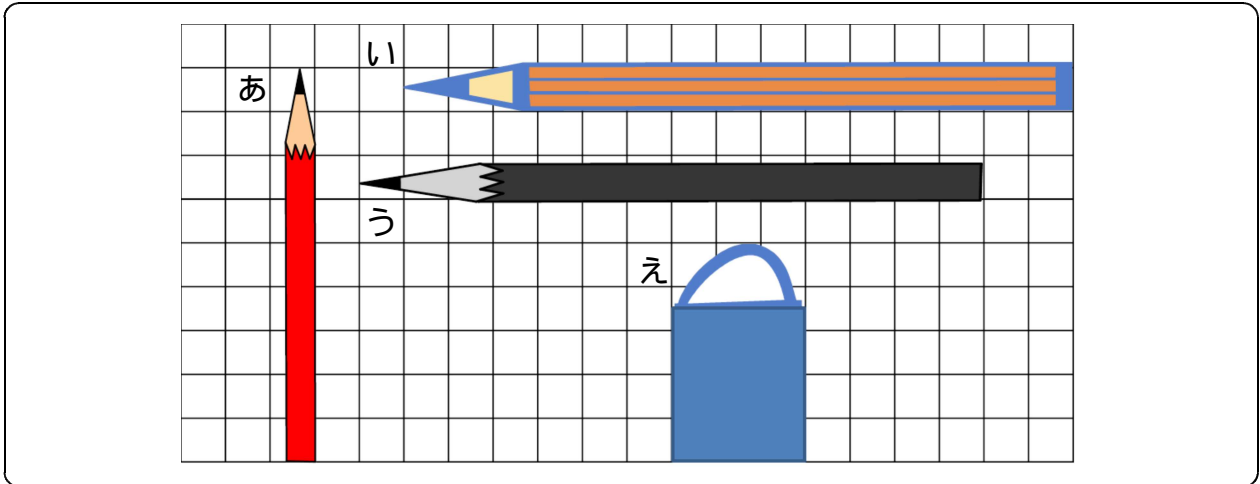
たしかめもんだい 2

ねん

くみ

なまえ

1 ながさを しらべましょう。



(1) あ , い , う , え の ながさは ますで いくつぶんですか。

あは ますの _____ ぶんの ながさ。

いは ますの _____ ぶんの ながさ。

うは ますの _____ ぶんの ながさ。

えは ますの _____ ぶんの ながさ。

(2) いと うの ながさを くらべます。

どちらが なんます ぶん ながい ですか。

(しき)

(こたえ)

2 もんだいに こたえましょう。

りんごが 8つ あります。 2つ たべました。 その後、
ともだちに 1つ あげました。 りんごは いくつに なりましたか。

1つの しきに して こたえを かきましょう。

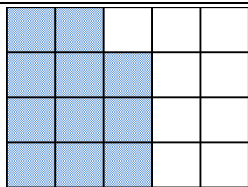
(しき)

(こたえ)

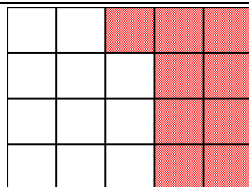
3 もんだいに こたえましょう。

$9 - 5 + 3$ のしきに なるような もんだいを つくりましょう。

4 ひろさを くらべましょう。



みのるさん



まちこさん

*いろが ついている ところが
じぶんの ひろさです。

(1) ますの かずで いくつぶん ですか。

みのるさんは ますの _____ ぶんの ひろさ。

まちこさんは ますの _____ ぶんの ひろさ。

(2) どちらが なんます ぶん ひろいですか。

(しき)

(こたえ)
