



たしかめもんだい 1

ねん


くみ

なまえ

1 ばすと とらっくの えをみて かんがえましょう。

 は  より なんだい おおいですか。

こたえは 「～は・・・より なんだい おおい」の かきかたで かきましょう。



(しき)

(こたえ)

2 $7 - 3 = 4$ の しきに なる おはなしを かきましょう。

おはなしと えを かきましょう。


おはなし

え

3 とまとの かずを ようびごとに まとめます。

○わかること

げつ か すい・もく・きん



○ひんと

すい・・・げつ よりも 2こ おおい。

もく・・・か よりも 2こ おおい。

きん・・・すい よりも 3こ おおい。

(1) とまとの かずを もとめます。しきと こたえを かきましょう。

すいようび

(しき)

(こたえ)

もくようび

(しき)

(こたえ)

きんようび

(しき)

(こたえ)

(2) とまとの かずの ぶんだけ いろを ぬりましょう。

<input type="radio"/>	<input type="radio"/>	<input type="radio"/>	<input type="radio"/>	<input type="radio"/>
<input type="radio"/>	<input type="radio"/>	<input type="radio"/>	<input type="radio"/>	<input type="radio"/>
<input type="radio"/>	<input type="radio"/>	<input type="radio"/>	<input type="radio"/>	<input type="radio"/>
<input type="radio"/>	<input type="radio"/>	<input type="radio"/>	<input type="radio"/>	<input type="radio"/>
<input type="radio"/>	<input type="radio"/>	<input type="radio"/>	<input type="radio"/>	<input type="radio"/>
<input type="radio"/>	<input type="radio"/>	<input type="radio"/>	<input type="radio"/>	<input type="radio"/>
<input type="radio"/>	<input type="radio"/>	<input type="radio"/>	<input type="radio"/>	<input type="radio"/>
<input type="radio"/>	<input type="radio"/>	<input type="radio"/>	<input type="radio"/>	<input type="radio"/>

げつ

か

すい

もく

きん

いろを ぬるときは
したから じゅんに
ぬりましょう。