

のこりは いくつ ちがいは いくつ

ねん

くみ

なまえ

1 もんだいに こたえましょう。

いちごが 8こ あります。 ももが 6こ あります。
いちごは ももより なんこ おおいでしょうか。

(1) いちごと ももを せんで むすびましょう。





(2) しきと こたえを かきましょう。こたえは 「～は …より
なんこ おおい」 のかきかたで かきましょう。

(しき)

(こたえ)

2 かずを かぞえて もんだいに こたえましょう。

 は  より なんひき おおいでしょうか。しきと こたえ
をかきましょう。こたえは 「～は …より なんひき おおい」 の
かきかたで かきましょう。



(しき)

(こたえ)

◎みじかな ことや ものを つかって もんだいづくりを しても たのしいね。

のこりは いくつ ちがいは いくつ

ねん

くみ

なまえ

とまとの かずを ようびごとに まとめます。

○わかること

げつ



か



すい



もく・きん

?



○ひんと

もく・・・か よりも 2こ おおい。

きん・・・すい よりも 3こ おおい。

1 とまとの かずを もとめます。しきと こたえを かきましょう。

(1) もくようび

(しき)

(こたえ)


(2) きんようび

(しき)

(こたえ)

2 とまとの かずを せいりして ぐらふに あらわしましょう。

とまとの かずぶん いろをぬりましょう。



げつ

か

すい

もく

きん

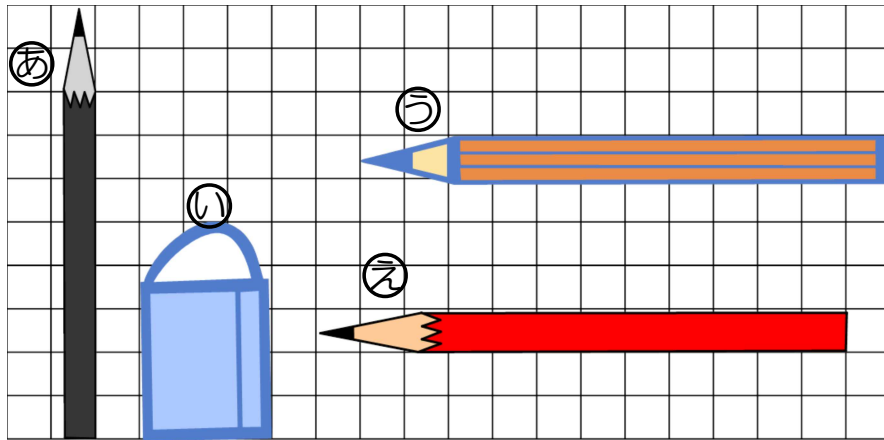
いろを ぬるときは
したから じゅんに
ぬりましょう。

どちらがながい

ねん

くみ

なまえ



ながさを しらべましょう。

- 1 ①と ②の ながさを くらべます。どちらが ますの
いくつ ぶん ながい ですか。

①の ながさは ますの _____ ぶん

②の ながさは ますの _____ ぶん

(こたえ)

- 2 こうへいさんは したの ように っています。



③と ④の ながさを くらべると、③の ほうが
④より 1ますぶん ながいです。

- (1) ③と④の ますの かずを かぞえましょう。

③の ながさは ますの _____ ぶん

④の ながさは ますの _____ ぶん

- (2) こうへいさんの っていることは ただしいですか、
ただしくないですか。まるを つけましょう。

(ただしい ・ ただしくない)

3つのかずのけいさん

ねん

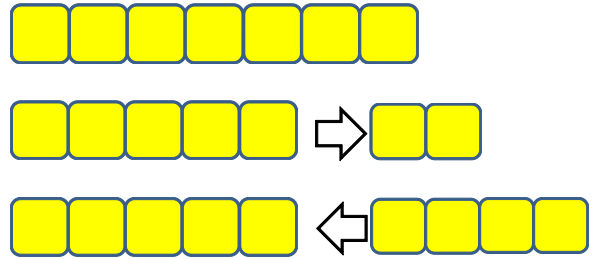
くみ

なまえ

1 ブロックの うごきをみて かんがえましょう。

1つの しきにして しきと こたえを かきましょう。

(しき)



(こたえ) _____

2 $5 + 2 - 3$ の もんだいに なるのは どれでしょう。

しきに あう もんだいの ばんごうを かきましょう。

(1) ねこが 5ひき あそんでいます。すると、2ひき かえりました。そして、3ひき かえりました。ねこは なんびきですか。

(2) ばすが 5だい とまっています。2だい きました。しばらくすると 3だい しゅっぱつしました。ばすは なんだいとまっていますか。

(3) いちごが 5つ あります。はじめに 2つ たべました。そのあと 3つ たべました。いちごは なんこ ありますか。

(こたえ) _____

いろいろな もので もんだいを つくってみましょう。

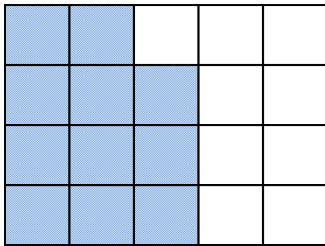


どちらが ひろい				
ねん		くみ	なまえ	

ますの かずで ひろさを くらべましょう。

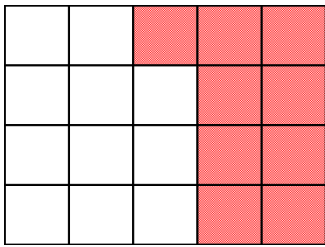
ともやさんは ゆみさんと ひろさくらべを しました。いろのついた ぶんぶんが ひろさです。

1 ともやさんの ひろさは ますの かずで いくつぶん ですか。



ますぶん

2 ゆみさんの ひろさは ますの かずは いくつぶん ですか。



ますぶん

3 どちらが どれだけ ひろいですか。

「～は ……より ○ますぶん ひろい」の こたえかたで かきましょう。

◎ますのかずを かぞえて くらべると どちらが ひろいか わかるね。

たしざんとひきざん

ねん

くみ

なまえ

1 ずを つかって かんがえましょう。

おみせの まえに，15にん ならんで います。 のりおさんは，
まえから 5ばんめに ならんでいます。

(1) のりおさんが どこにいるかが 分かるように したの ずに
いろを ぬりましょう。

まえ ○○○○○○○○○○○○○○○○○

(2) のりおさんの うしろには なんにん いますか。

しき

こたえ _____

2 ずを かいて かんがえましょう。

みんなで 1れつに ならんで います。 のぶあきさんはうしろ
から 2ばんめに います。まえには 7にん ならんで います。

(1) なんにん ならんで いるか わかるように を つかって
下に かきましよう。また，のぶあきさんを で かきましよう。

まえ

(2) みんなで なんにん ならんでいますか。


しき

こたえ _____

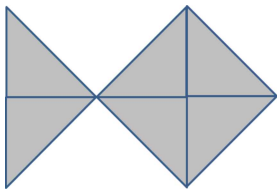
みじかなことで ずを つかって かんがえる もんだいは あるかな。

かたちづくり				
ねん		くみ	なまえ	

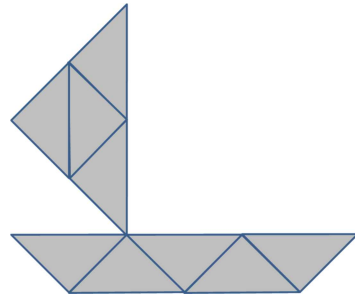
1 いろいろたで 下のよう な かたちを つくります。

 の いろいろたが なんまい あれば つくれますか。


(1)

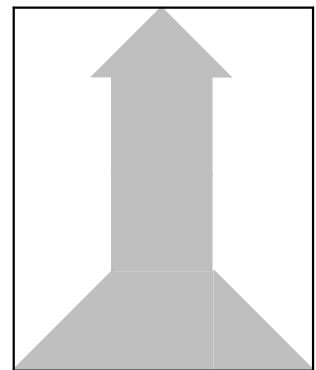


(2)



2 ロケットの ずい せんを かいて かんがえましょう。

 の いろいろたで ロケットを つくります。 いろいろたが なんまい あれば つくれる でしょうか。



こたえ _____

かんせいず

◎いろいろたを つかって いろいろな かたちを つくってみるのも たのしいね。



たしかめもんだい 1

ねん


くみ

なまえ

1 ばすと とらっくの えをみて かんがえましょう。

 は  より なんだい おおいですか。

こたえは 「～は・・・より なんだい おおい」の かきかたで かきましょう。



(しき)

(こたえ)

2 $7 - 3 = 4$ の しきに なる おはなしを かきましょう。

おはなしと えを かきましょう。

おはなし

え

3 とまとの かずを ようびごとに まとめます。

○わかること

げつ



か



すい・もく・きん

?



○ひんと

すい・・・げつ よりも 2こ おおい。

もく・・・か よりも 2こ おおい。

きん・・・すい よりも 3こ おおい。

(1) とまとの かずを もとめます。しきと こたえを かきましょう。

すいようび

(しき)

(こたえ)

もくようび

(しき)


(こたえ)

きんようび

(しき)

(こたえ)

(2) とまとの かずの ぶんだけ いろを ぬりましょう。



げつ

か

すい

もく

きん

いろを ぬるときは
したから じゅんに
ぬりましょう。

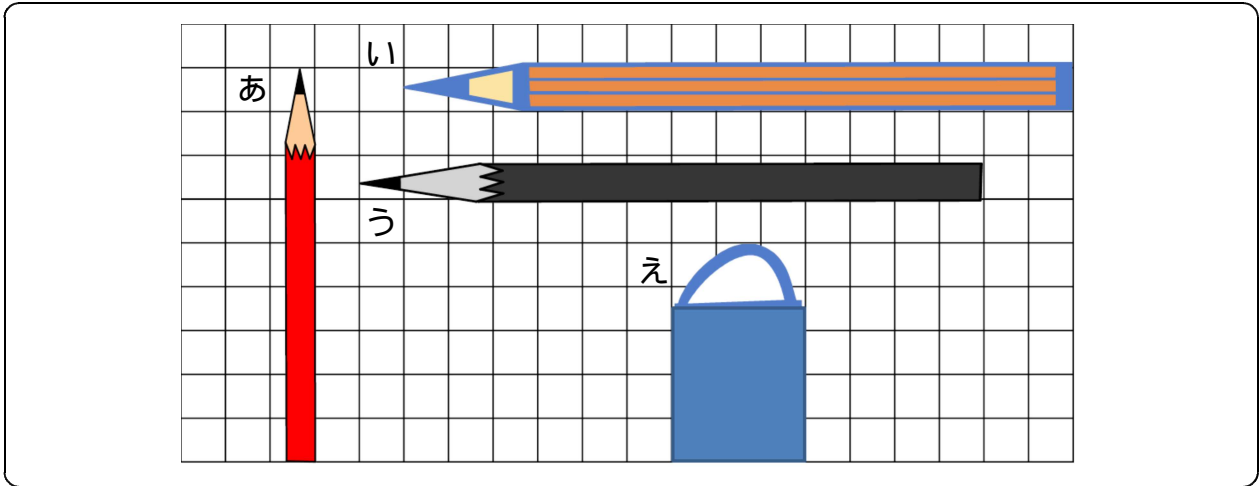
たしかめもんだい 2

ねん

くみ

なまえ

1 ながさを しらべましょう。



(1) あ , い , う , え の ながさは ますで いくつぶんですか。

あは ますの _____ ぶんの ながさ。

いは ますの _____ ぶんの ながさ。

うは ますの _____ ぶんの ながさ。

えは ますの _____ ぶんの ながさ。

(2) いと うの ながさを くらべます。

どちらが なんます ぶん ながい ですか。

(しき)

(こたえ)

2 もんだいに こたえましょう。

りんごが 8つ あります。 2つ たべました。 そのあと、
ともだちに 1つ あげました。 りんごは いくつに なりましたか。

1つの しきに して こたえを かきましょう。

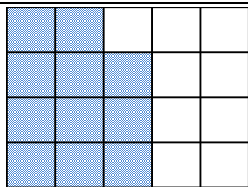
(しき)

(こたえ)


3 もんだいに こたえましょう。

$9 - 5 + 3$ のしきに なるような もんだいを つくりましょう。

4 ひろさを くらべましょう。



みのるさん



まちこさん

*いろが ついている ところが
じぶんの ひろさです。

(1) ますの かずで いくつぶん ですか。

みのるさんは ますの _____ ぶんの ひろさ。

まちこさんは ますの _____ ぶんの ひろさ。

(2) どちらが なんます ぶん ひろいですか。

(しき)

(こたえ)

たしかめもんだい 3

ねん

くみ

なまえ

1 ずをみてこたえましょう。

おみせのまえにひとがならんでいます。たかさんのまえには3にんいます。たかさんのうしろには4にんいます。ぜんぶでなんにんならんでいますか。



たかさん

(まえ)

(うしろ)

(1) うえのずをみてしきとこたえをかきましょう。

(しき)

(こたえ)

2 ずをかいてかんがえましょう。

かんらんしゃのまえにひとがならんでいます。せらさんのまえには4にんいます。せらさんのうしろには6にんいます。ぜんぶでなんにんならんでいますか。

(1) せらさんを でほかのひとを でかきましょう。



(まえ)

(2) しきとこたえをかきましょう。

(しき)

(こたえ)

3 おはなしを よんで こたえましょう。

7 - 3 + 4 の しきに なる もんだいは どれでしょう。
しきに あう もんだいの ばんごうを かきましょう。

7 にん で あそんでいます。 3 にん かえりました。 そのあと
4 にん かえりました。

ぜんいんで なんにん ですか。

ばななが 7 ほん あります。 ともやくんが 3 ほん たべました。
ともだちに 4 ほん あげました。

ばななは ぜんぶで なんほん ですか。

くるまが 7 だい とまっています。 3 だい しゅっぱつしました。
そのあと 4 だい きました。

くるまは ぜんぶで なんだい ですか。

(こたえ) _____

4 ずを みて かんがえましょう。

いろいろたを つかって、 ロケットを 2 つ つくります。



の いろいろたが なんまい あれば よい ですか。



かんせいず

(こたえ) _____