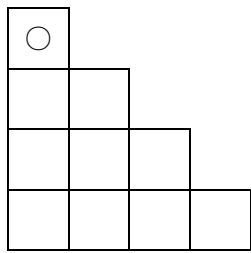


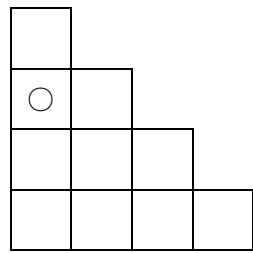
問題7 ならべかたのきまりをみつけよう

学 年		組		氏 名	
--------	--	---	--	--------	--

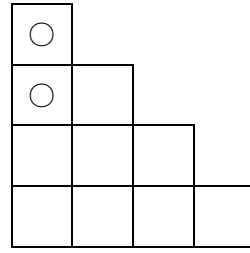
整数をある決まりにしたがって、下の図のように○であらわしました。整数の101を表すには、○をどこにかきいれればよいでしょうか。



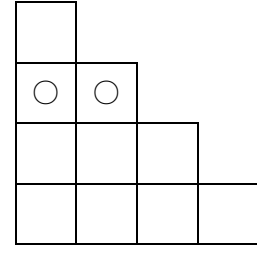
1



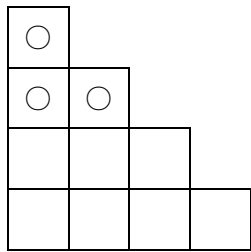
2



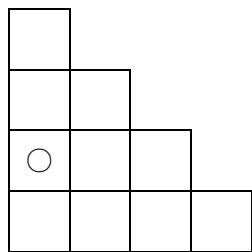
3



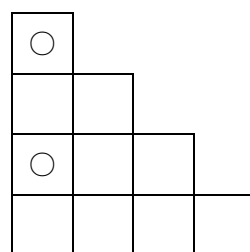
4



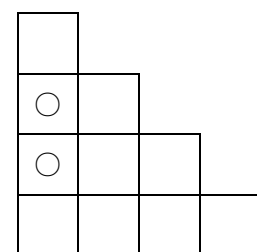
5



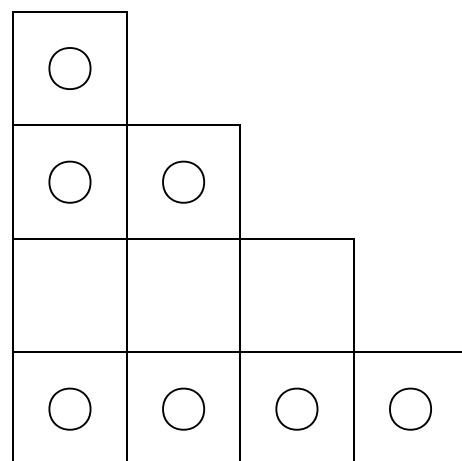
6



7



8



101