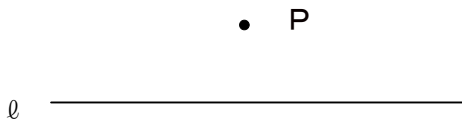


19 平面図形 ③ ~ 基本の作図 ~

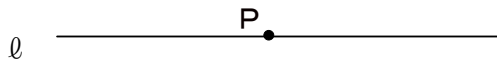
学年		組		氏名	
----	--	---	--	----	--

1 下の図で、点Pから直線 l への垂線
 を作図しなさい。


[H18 宮城県学習状況調査]



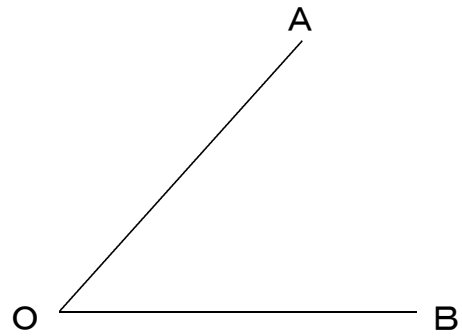
2 下の図で、点Pを通る直線 l の垂線
 を作図しなさい。



3 下の図の線分ABの垂直二等分線
 を作図しなさい。



4 下の図の $\angle AOB$ の二等分線を作図
 しなさい。



5 下の図の $\angle XOY$ の二等分線を作図
 しなさい。 [H17 宮城県学習状況調査]

