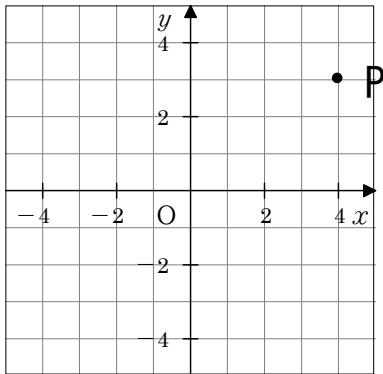


# 1 3 比例と反比例 ③ ~ 比例のグラフ ~

学年		組		氏名	
----	--	---	--	----	--

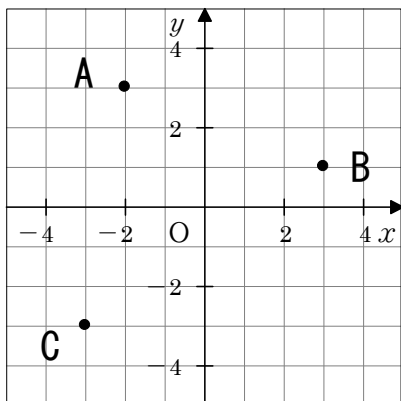
1 次の図の点Pについて、下の①~④の  にあてはまる数を答えなさい。



点Pの座標は (  ① ,  ② ) で、  
 原点Oから右へ  ③ , 上へ  ④  
 進んだところにある。

①	②	③	④
<b>4</b>	<b>3</b>	<b>4</b>	<b>3</b>

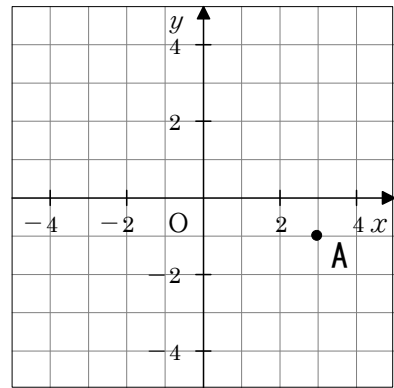
2 下の図で、点A、B、Cの座標を答えなさい。



- A ( **-2** , **3** )
- B ( **3** , **1** )
- C ( **-3** , **-3** )

3 次の点Aの座標を①~④の中から1つ選び、番号で答えなさい。

[H19 宮城県学習状況調査] (80.7%)



- ① ( 1 , -3 )
- ② ( 3 , 1 )
- ③ ( 3 , -1 )
- ④ ( -1 , 3 )

③

4  $y = 2x$  のグラフをかきなさい。

[H19 宮城県学習状況調査] (58.6%)

