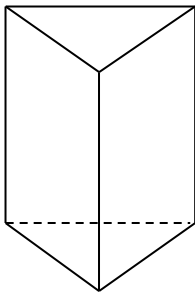


# 18 角柱と円柱

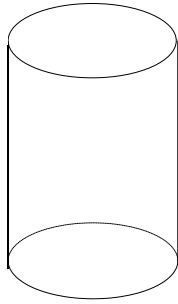
学 年		組		氏 名	
--------	--	---	--	--------	--

1 次の立体について、次の問いに①から⑥の番号で答えましょう。

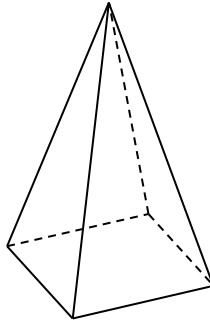
①



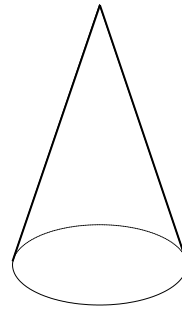
②



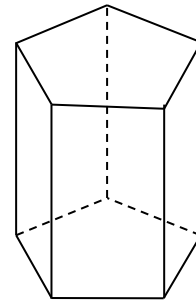
③



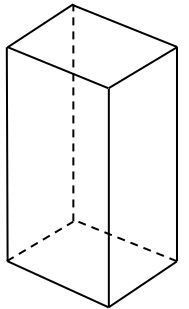
④



⑤



⑥



(1) 角柱はどれですか。 ( )

(2) 円柱はどれですか。 ( )

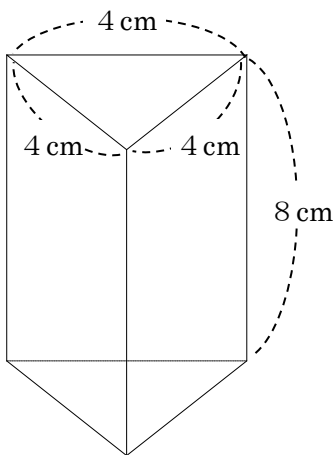
(3) 角柱でも円柱でもない立体はどれですか。 ( )

(4) ①②⑤⑥の立体の名前をかきましょう。

① ( )      ② ( )

③ ( )      ④ ( )

2 この角柱を作りたいと思います。



(1) 底面は何という形で何枚必要でしょうか。

( )

(2) 側面は何という形で何枚必要でしょうか。

( )

(3) 側面を作るには、たて何 cm, 横何 cm の画用紙が必要ですか。

( )