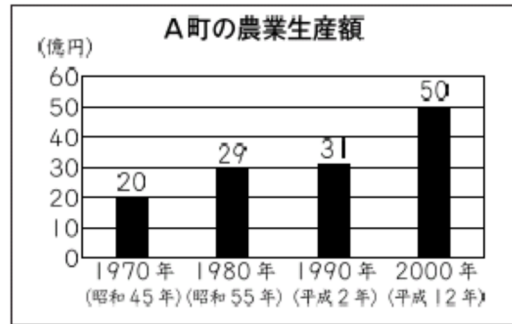


15 帯グラフと円グラフ

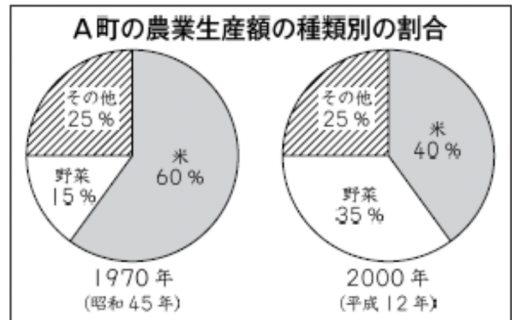
学 年		組		氏 名	
--------	--	---	--	--------	--

1 ひろしさんが住んでいるA町の農業生産額について、下の2種類の資料を使って調べます。

棒グラフは、農業生産額を1970年から10年ごとに表しています。



円グラフは、1970年と2000年の農業生産額の種類別の割合を表しています。

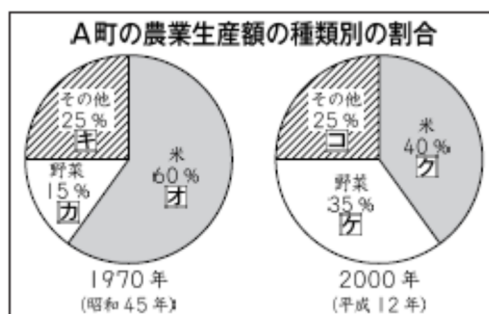
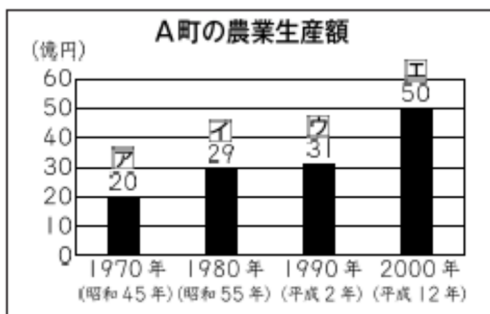


(1) A町の1980年の農業生産額は何円ですか。答えを書きましょう。

()

(2) 下のよう、棒グラフと円グラフに表された生産額や割合に、アからコまでの記号を付けました。

A町の2000年の野菜の生産額を求めるためには、資料の中のアからコまでのうち、どれが必要ですか。アからコまでの中から2つ選んで、その記号を書きましょう。



(,)

(3) 次は、米について考えます。A町の1970年と2000年の米の生産額について、ひろしさんは、次のように言いました。

米の割合が、60%から40%に減っているから、米の生産額は、減っています。



ひろしさんの言っていることは、正しいですか。「正しい」か「正しくない」かのどちらかを○で囲みましょう。また、そのわけを、言葉や式を使って書きましょう。

<答え>

ひろしさんの言っていることは (正しい ・ 正しくない)

<わけ>