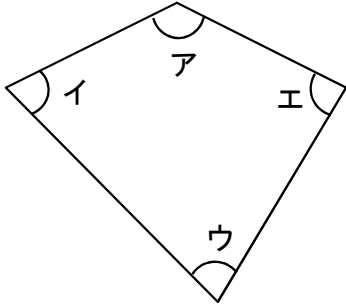


7 図形の角

学 年		組		氏 名	
--------	--	---	--	--------	--

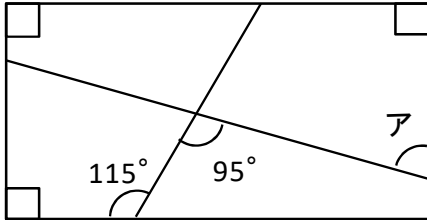
- 1 下の四角形で、ア～エの4つの角の大きさの和は何度になりますか。
また、それはなぜですか。わけを書きましょう。



4つの角の大きさの和は ()

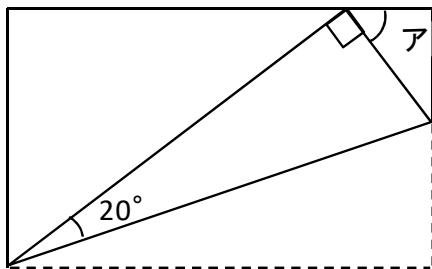
わけ

- 2 次の図形のアの角度を求めましょう。



ア ()

- 3 長方形の紙を下図のように折ったとき、折った部分の角が 20° になりました。
このとき、アの角の大きさは何度になりますか。



ア ()