

7 図形の角

学 年		組		氏 名	
--------	--	---	--	--------	--

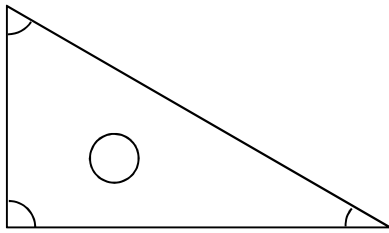
1 次の () の中にあてはまることばや数を書きましょう。

(1) 三角形の3つの角の大きさの和は () です。

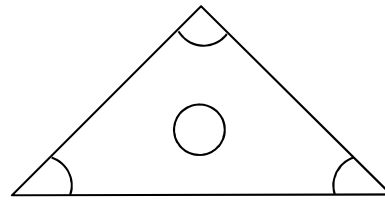
(2) 四角形の4つの角の大きさの和は () です。

2 三角定規^{じょうぎ}の角の大きさを、() に書きましょう。

()



()



()

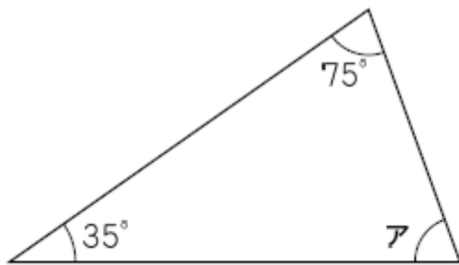
()

()

()

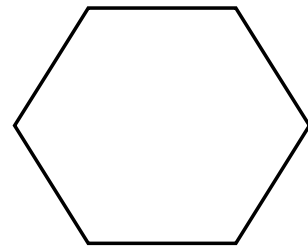
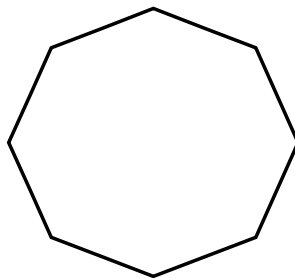
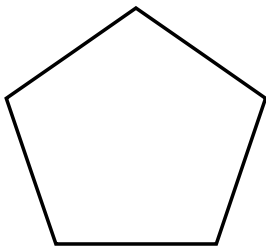
H19 全国学力調査問題

3 次の三角形のアの角度は何度ですか。計算で求めましょう。



ア ()

4 次の形は、辺の長さも、角の大きさも等しい図形です。これらの図形の名前を書きましょう。



()

()

()