

2 直方体や立方体の体積

学 年		組		氏 名	
--------	--	---	--	--------	--

1 次の にあてはまることばや数を書きましょう。

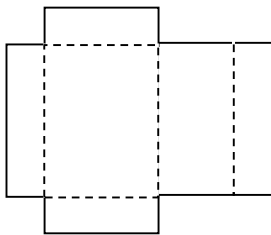
(1) もののかさのことを、 といいます。

(2) 1辺が1cmの立方体の を1立方センチメートルといい、
 と書きます。

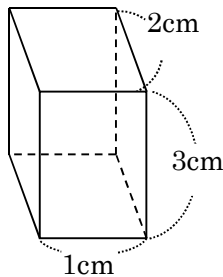
(3) 直方体や立方体のかさは、1辺が の立方体が何個分あるかで表します。

2 下の図の中で、1辺が1cmの立方体^{みとりず}の見取図を選び、()にその番号を書きましょう。

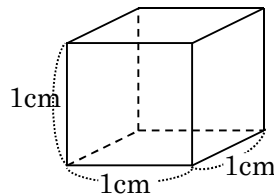
(1)



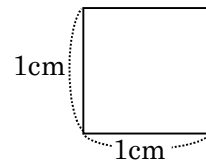
(2)



(3)



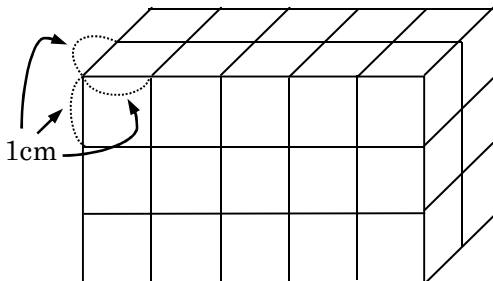
(4)



()

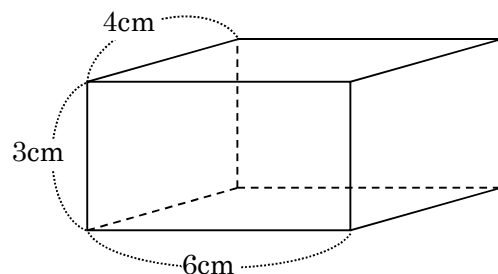
3 下の直方体の体積を求めましょう。

(1)



()

(2)



()