
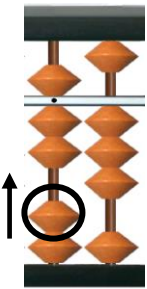
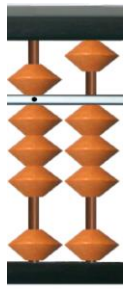


そろばん

学 年		組		氏 名	
--------	--	---	--	--------	--


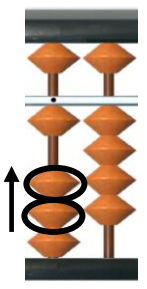
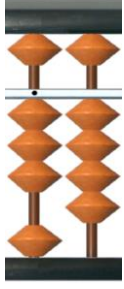
1 そろばんを使った計算のしかたを考えましょう。

● 7.3 + 1.4

<p>7.3 を入れる。</p> 	<p>1.4 の1をたす。</p> 	<p>1.4 の 0.4をたす時に、動かす玉はどれか、<u>左の図のように、○印で囲み、矢印を書きましょう。</u></p> 
---	--	---

答え ()

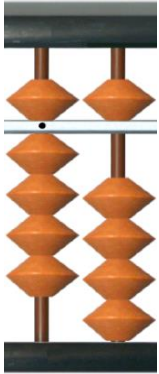
● 1.4 + 2.7

<p>1.4 を入れる。</p> 	<p>2.7 の2をたす。</p> 	<p>2.7 の 0.7をたす時に、動かす玉はどれか、<u>左の図のように、○印で囲み、矢印を書きましょう。</u></p> 
--	---	--

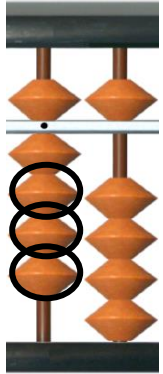
答え ()

● 9. 5 - 3. 2

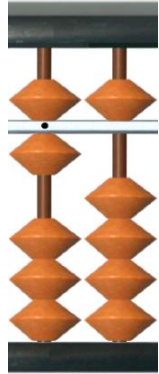
9. 5 を入れる。



3. 2 の 3 をひく。




3. 2 の 0. 2 をひく時に、動かす玉はどれか、左の図のように、○印で囲み、矢印を書きましょう。




答え ()

● 8 - 2. 7


8 を入れる。



2. 7 の 2 をひく。



2. 7 の 0. 7 をひく時に、動かす玉はどれか、左の図のように、○印で囲み、矢印を書きましょう。



答え ()