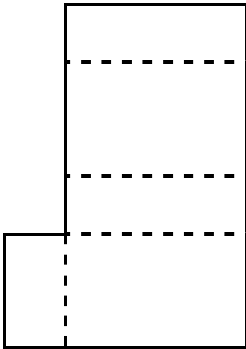


# 16 立体

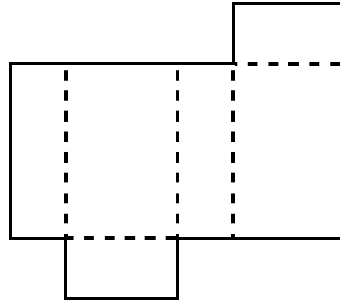
学 年		組		氏 名	
--------	--	---	--	--------	--

1 下の図で、直方体の正しい展開図はどれですか。

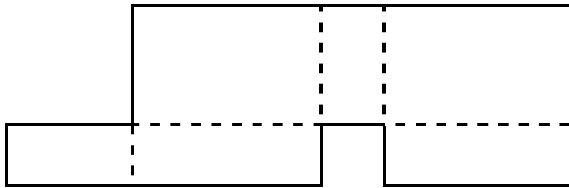
ア



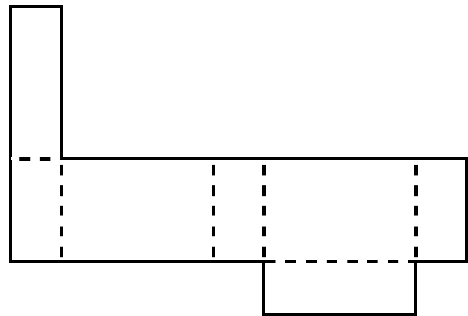
イ



ウ



エ



( イ )

アは面が1つ足りない。ウは面が重なる。エは面が1つ多い。正しいのはイです。

2 下の立方体のでん開図を組み立てます。辺スコに垂直な面はどれですか。

		シ	サ		
ア	セ	ス	た	コ	ケ
	ち	つ	て	と	
イ	ウ	エ	な	キ	ク
		オ	カ		

( つ , と )