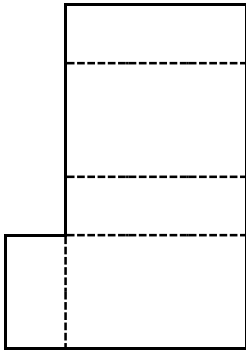


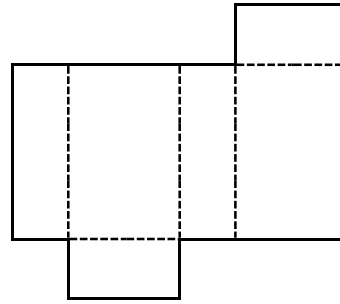
<h1>1 4 直方体と立方体</h1>				
学 年		組		氏 名

1 下の図で、直方体の正しい展開図はどれですか。

ア



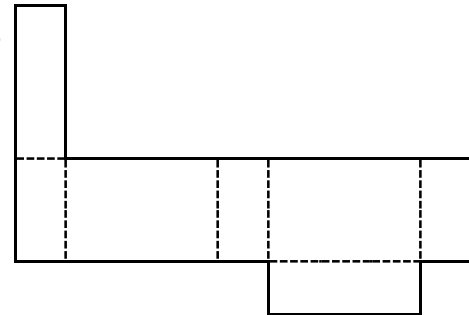
イ



ウ



エ



( イ )

アは面が1つ足りない。ウは面が重なる。エは面が1つ多い。正しいのはイです。

2 下の立方体のでん開図を組み立てます。辺スコに垂直な面はどれですか。

		シ	サ		
ア	セ	ス	た	コ	ケ
ち	つ	て	と		
イ	ウ	エ	な	キ	ク
		オ	カ		

( つ , と )