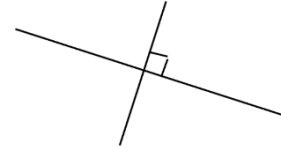


9 垂直・並行と四角形

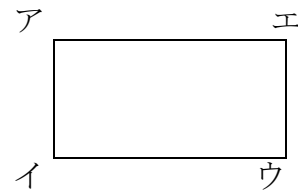
学 年		組		氏 名	
--------	--	---	--	--------	--

1 下の () の中にあてはまることばや記号を書きましょう。

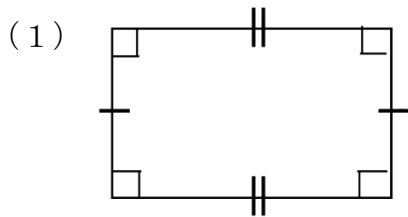
(1) 右の図のように、直角に交わる2本の直線は、
(垂直) であるといいます。



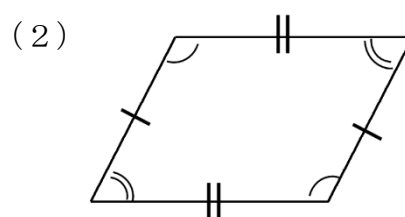
(2) 右の図は長方形です。アイの辺と平行な辺は
(辺エウ) です。



2 下の四角形の名前を書きましょう。

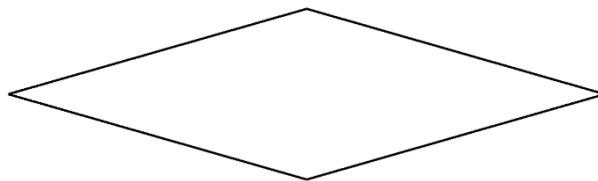


(長 方 形)



(平 行 四 辺 形)

3 下の図はひし形です。次の () の中にあてはまる数字やことばを書きましょう。



(1) (4) つの辺の長さがみな (等しい) 四角形をひし形といいます。

(2) ひし形では、向かい合った辺は (平行) で、向かい合った (角) の大きさは等しいです。