

そろばん

学 年		組		氏 名	
--------	--	---	--	--------	--

1 そろばんを使った計算のしかたを考えましょう。

● 8.4 + 3.4

8.4 を入れる。

3.4 の3をたす。

問題(1) 下の()
に数字を入れましょう。

3をたすには、
(7)をはらって、
(10)を入れます。

3.4 の0.4をたす。

問題(2)
3.4 の0.4をたす時に
動かす玉を、下の例のよう
に○印で囲み、矢印を書き
ましょう。

問題(3) 8.4 + 3.4 の答えは(11.8)です。


最後に玉を動かしたあとは、答えが11.8になります。

(例) 8.7 + 0.2

2 そろばんを使った計算のしかたを考えましょう。

● 6. 2 - 2. 3

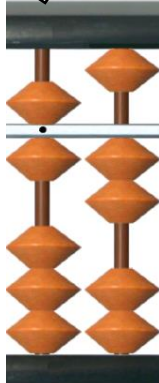
6. 2 を入れる。



2. 3 の 2 をひく。

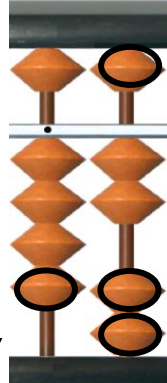
問題 (1) 下の () に数字を入れましょう。

2 をひくには、
(3) を入れて、
(5) をはらいます。



2. 3 の 0. 3 をひく。

問題 (2)
2. 3 の 0. 3 をひく時に動かす玉を、下の例のように○印で囲み、矢印を書きましょう。



2 をひくには、1 玉からひけないので 5 をはらって多くひきすぎた分、3 を入れます。玉の動かし方は、先に 3 を入れて 5 をはらいます。

0. 3 をひくには、1 玉からも 5 玉からもひけないので、上の位からかりてきてひきます。1 をはらって、多くひきすぎた分 0. 7 を入れます。玉の動かし方は、①先に 1 をはらって②次に 0. 7 を入れます。

問題 (3) 6. 2 - 2. 3 の答えは (3. 9) です。

最後に玉を動かしたあとは、答えが 3. 9 になります。

(例) 8. 7 - 0. 2

