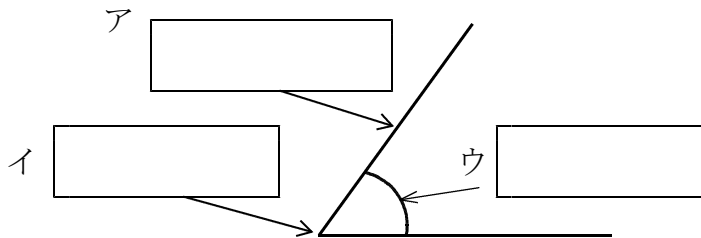


# 17 三角形と角

学 年		組		氏 名	
--------	--	---	--	--------	--

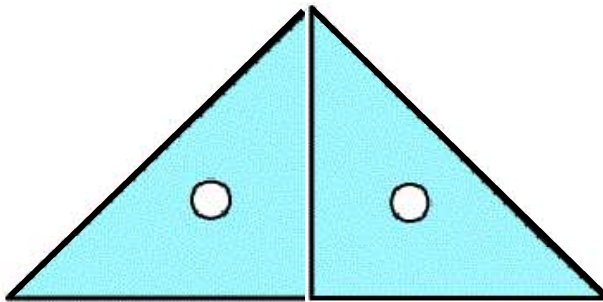
1 次の ( ) にあてはまる数やことばを書きましょう。

- (1) ( ) 三角形・・・2つの辺の長さが等しい三角形
- (2) 正三角形・・・( ) つの辺の長さが等しい三角形
- (3) 1つのちょう点から出ている2つの辺がつくる形を( ) といいます。
- (4) 下の  にあてはまることばを書きましょう



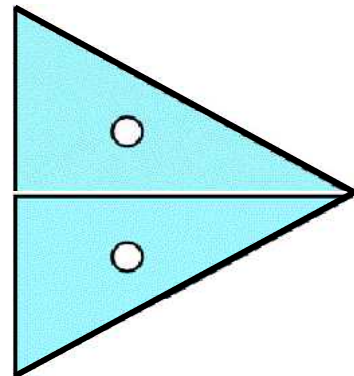
2 三角じょうぎを下のようにならべました。何という三角形ができるか ( ) にその名前を書きましょう。

(1)



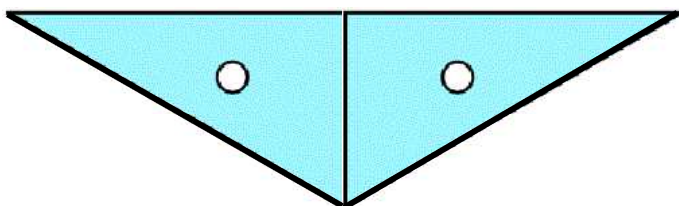
( )

(2)



( )

(3)



( )