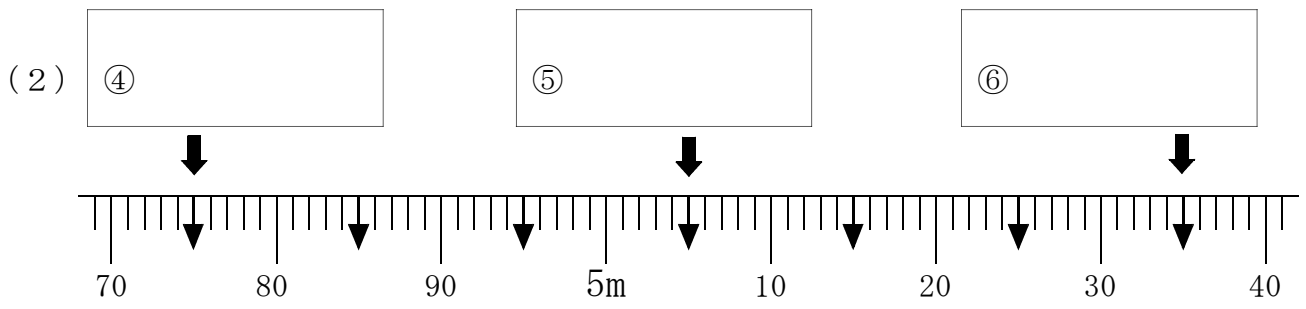
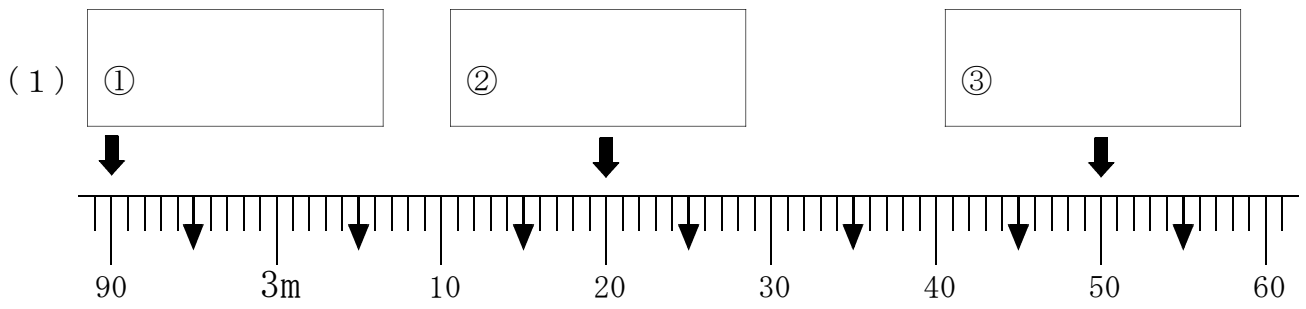


5 長いものの長さのはかり方と表し方

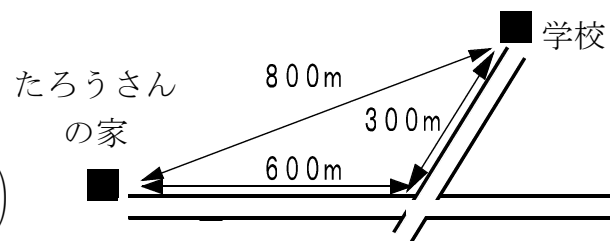
学 年		組		氏 名	
--------	--	---	--	--------	--

1 下の図の ↓ のめもりが表す長さをよみましょう。



2 右の絵地図で、たろうさんの家から学校までの道のりは何mですか。

()



3 次の にあてはまる数を書きましょう。

(1) $3 \text{ km} = \text{ m}$ (2) $6000 \text{ m} = \text{ km}$

(3) $9 \text{ km } 200 \text{ m} = \text{ m}$ (4) $4800 \text{ m} = \text{ km } \text{ m}$