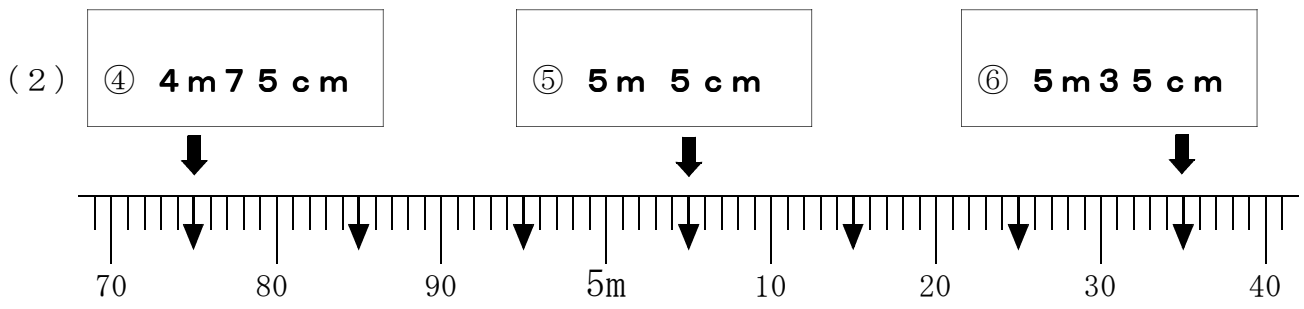
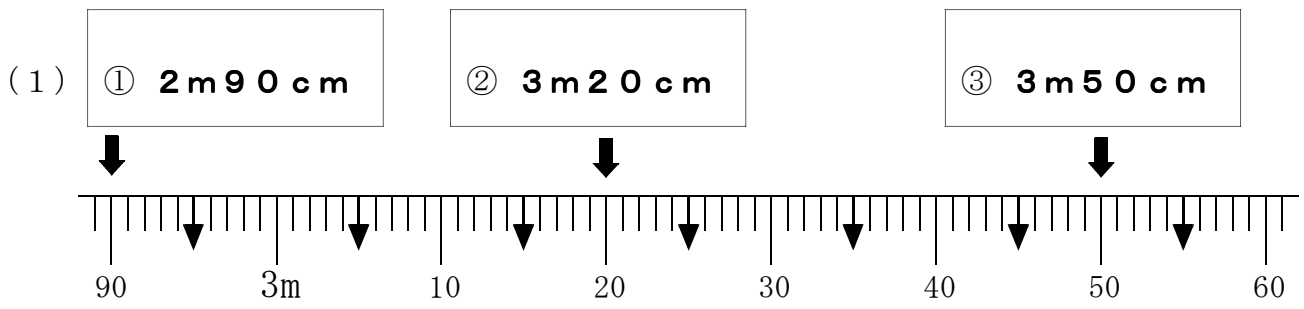


11 長さ

| | | | | | |
|--------|--|---|--|--------|--|
| 学 年 | | 組 | | 氏 名 | |
|--------|--|---|--|--------|--|

1 下の図の ↓ のめもりが表す長さをよみましょう。

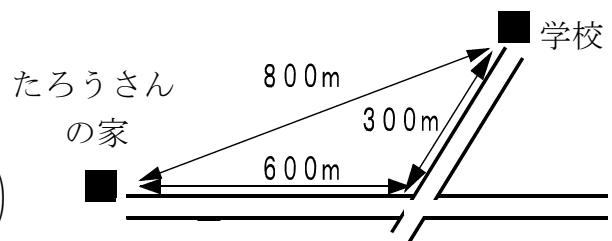


1めもりの大きさを考えてみましょう。(1)と(2)の1めもりは、1cmになっています。

2 右の絵地図で、たろうさんの家から学校までの道のりは何mですか。

$$600 + 300 = 900$$

(900m)



3 次の にあてはまる数を書きましょう。

(1) 3 km = m (2) 6000 m = km

(3) 9 km 200 m = m (4) 4800 m = km m