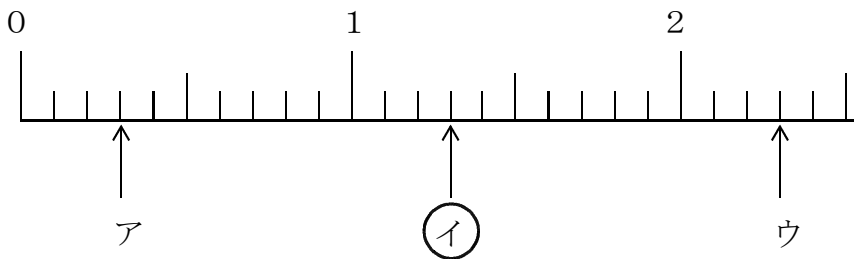
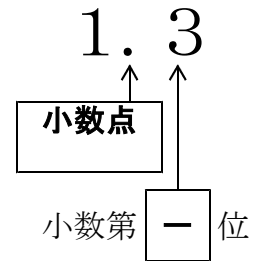
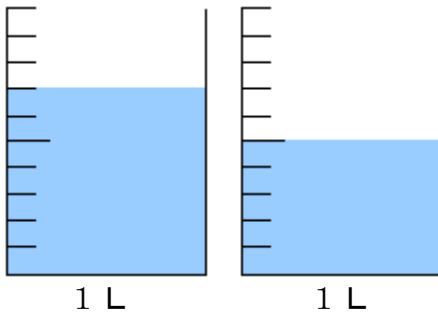


1 2 小数				
学年		組		氏名

1 右の小数について、□の中にあてはまることばや数字を漢字で書きましょう。また、下の数直線で、この小数があらわすめもりはア～ウのどれですか。その記号を○でかこみましょう。



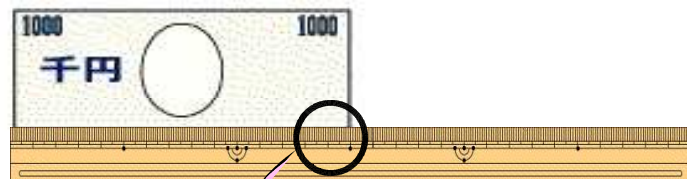
2 ペットボトルに入っているジュースを、1 Lの入れ物2つに分けて入れたところ、下の図のようになりました。このペットボトルには何Lのジュースが入っていたのでしょうか。



<式> $0.7 + 0.5 = 1.2$

<答え> (1.2 L)

3 右の図のように、1000円札の横の長さを、ものさしではかりました。次の文の中の()にあてはまる数を書きましょう。



1000円札の横の長さは
 (14) cm
 (9) mm
 です。
 ここで、1mmは
 (0.1) cm
 だから、1000円札の横の長さは
 (14.9) cm
 となります。

