


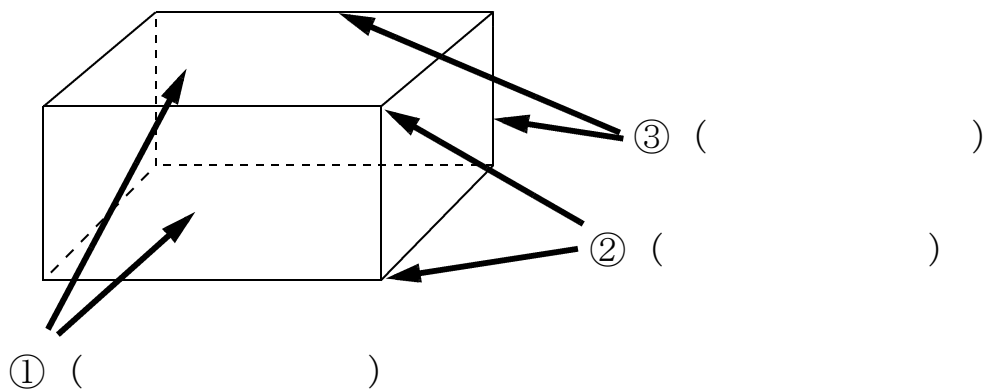
17 はこの形をしらべよう

☆準備物：じょうぎ



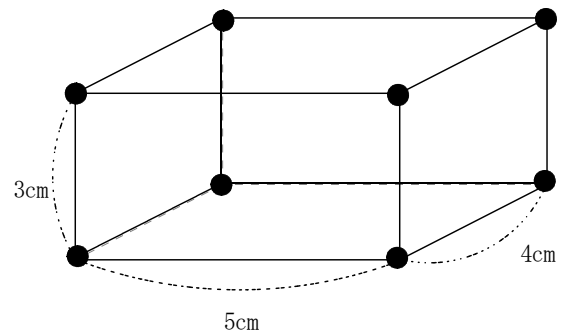
学 年		組		氏 名	
--------	--	---	--	--------	--

1 下の図の ①～③は それぞれ 何といますか。



2 ひごと ねん土玉 を使って、右の形のような はこの形を 作ります。

(1) どんな長さの ひごを 何本ずつ 用意すれば よいですか。



(2) ねん土玉は 何こ いらいますか。

()

(3) この はこの形の 面は、何という四角形ですか。

()

(4) このはこの へんの 数は、いくつですか。

()

3 にあてはまる数を書きましょう。

はこの形には、面が つ、へんが 本、ちょう点が つ

あります。

4 ひごとねん土玉で、右のようなさいころの形を作ろうと思います。

(1) ねん土玉は、いくつ いらいますか。

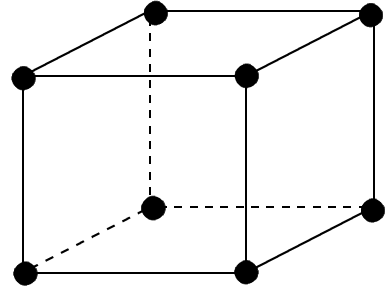
()

(2) ひごは、何本 いらいますか。

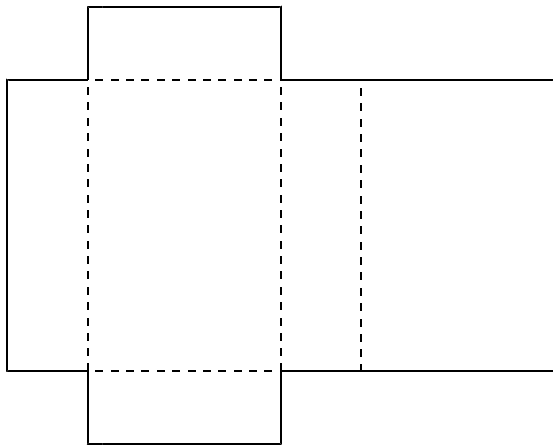
()

(3) ひごの長さは、どうなっていますか。

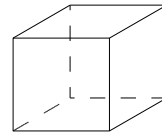
()



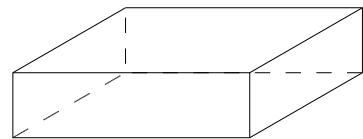
5 下の図を組み立てると、①～③の どの はこの形になりますか。ばんごうに ○をつけましょう。



①



②



③

