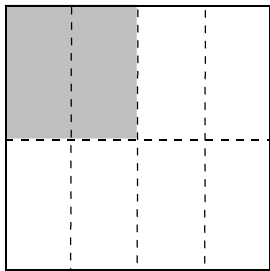


16 分けた 大きさの あらわし方を しらべよう

学 年		組		名 前	
--------	--	---	--	--------	--

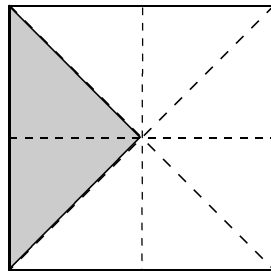
1 正方形や 長方形の紙を おって 同じ大きさになるよう 切り
ました。色がついている大きさは、 もとの大きさの 何分の一と
いえば よいでしょう。

(1) 正方形



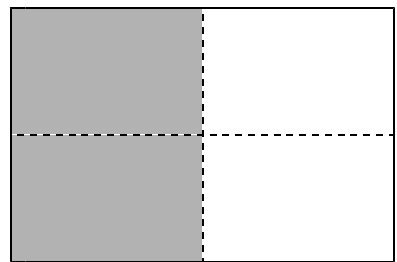
() 分の一

(2) 正方形



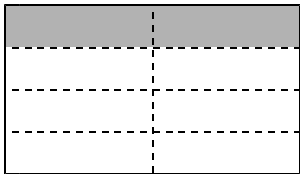
() 分の一

(3) 長方形



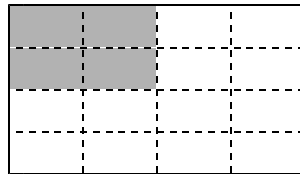
() 分の一

(4) 長方形



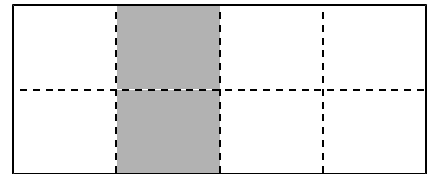
() 分の一

(5) 長方形



() 分の一

(6) 長方形



() 分の一


2 長方形の紙を 同じ大きさになるように おりました。

$\frac{1}{2}$ になる部分に 色を ぬりましょう。

ぬり方1




ぬり方2



- 3 正方形の紙を おって、点線で 同じ大きさに くぎってあります。
 $\frac{1}{4}$ になる部分に 色を ぬりましょう。

ぬり方1



ぬり方2

