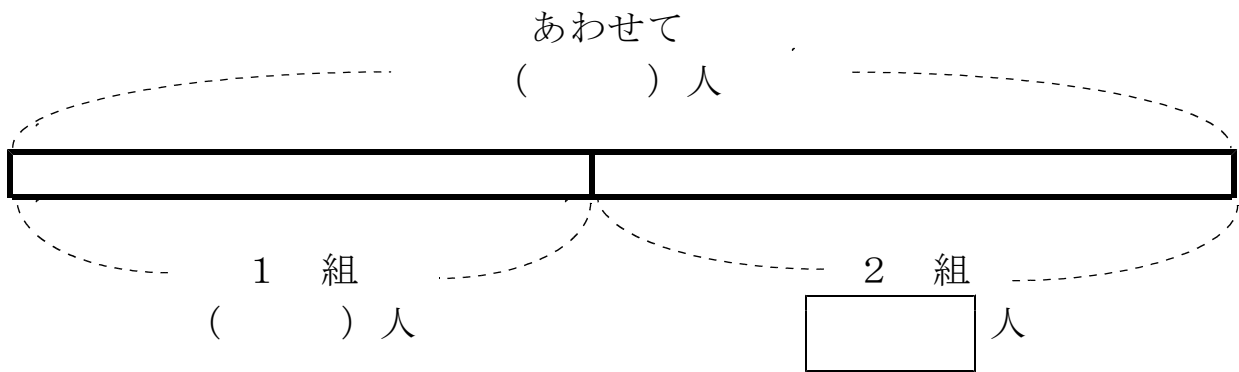


# 15 図をつかって考えよう


学年		組		氏名	
----	--	---	--	----	--

1 あきらさんの学校の2年生は1組と2組をあわせて71人います。1組は33人です。2組は何人ですか。  
 ( ) に数を書いて考えましょう。

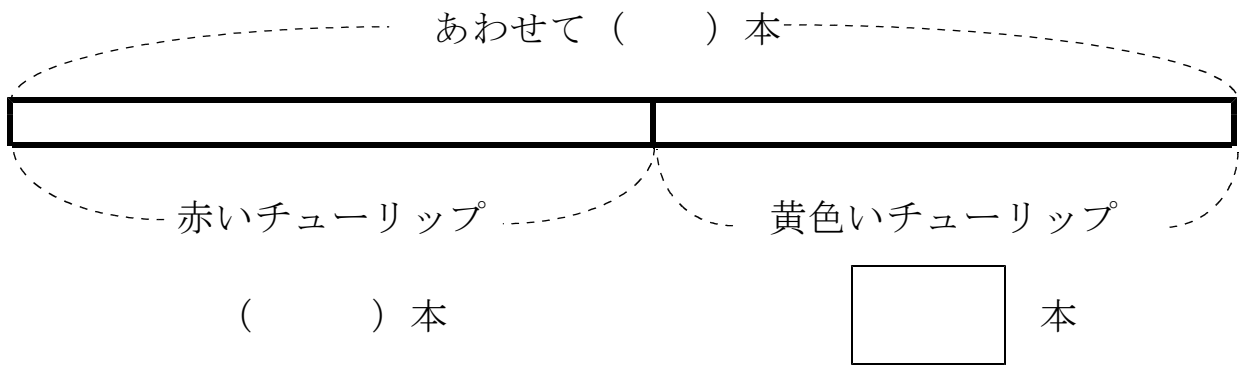


こた  
答え

2 赤いチューリップと黄色いチューリップがあわせて72本さいています。  
 そのうち赤いチューリップは44本です。



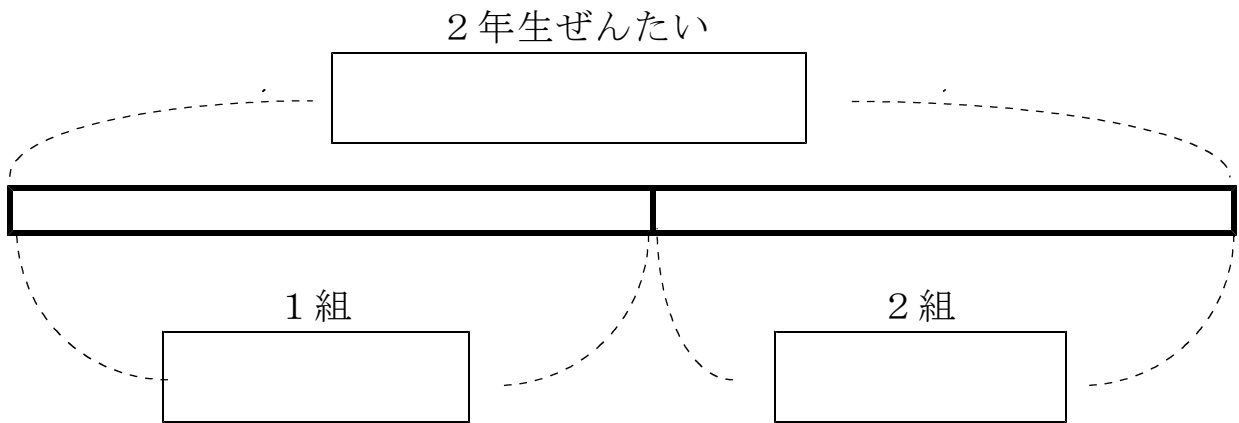
(1) 図の ( ) にあてはまる数をかきましょう。



(2) 黄色いチューリップの本数をもとめるしきを<sup>か</sup>書きましょう。

- 3 2年生の、1組、2組をあわせると75人います。  
1組は37人です。2組は何人でしょうか。  
図としきを書いて答えをもとめましょう。

〈図〉



しき

こた  
答え