

15 図をつかって考えよう

学年		組		氏名	
----	--	---	--	----	--

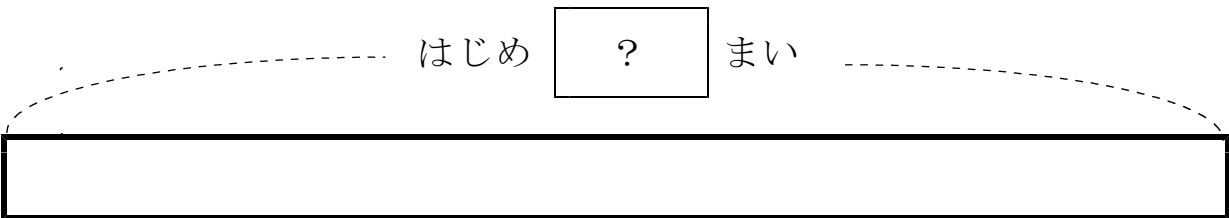
1 ^が画用紙が ^{なん}何まいか あります。8まい つかったの のこりが 12まいに なりました。

画用紙は、はじめ ^{なん}何まい ありましたか。

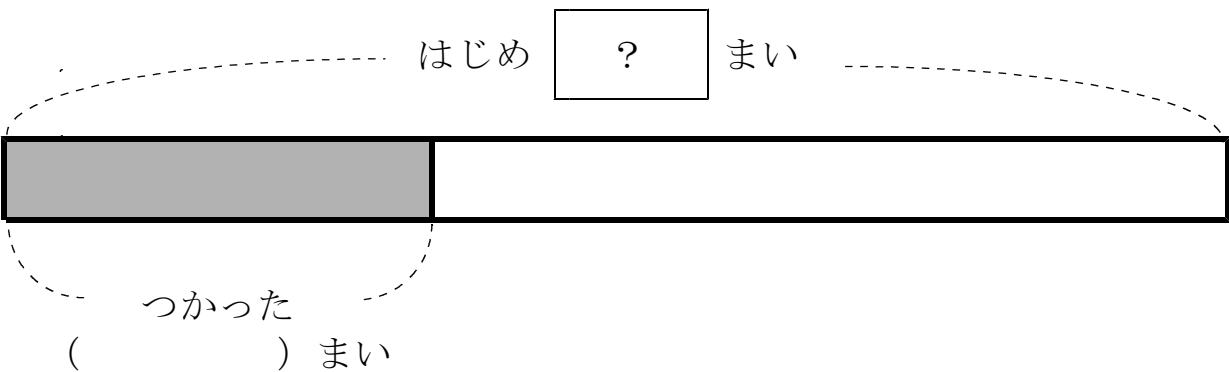
あきらさんは、^す図を書いて ^{こた}答えを もとめることにしました。

(1) ^が図の () に あてはまる数を ^か書きましょう。

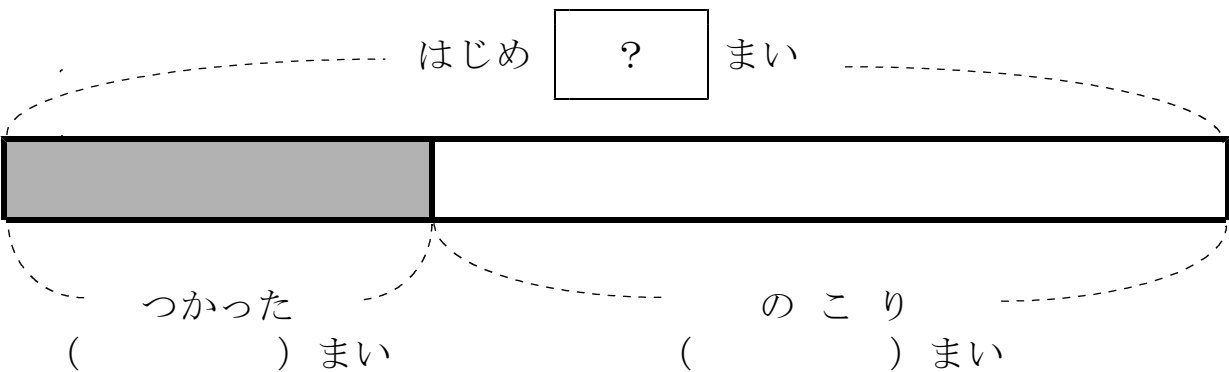
① ^が画用紙が ^{なん}何まいか あります。



② 8まい つかったの の



③ のこりが 12まいに なりました



(2) はじめの 画用紙の数を もとめるしきは

$$\boxed{} = \boxed{}$$

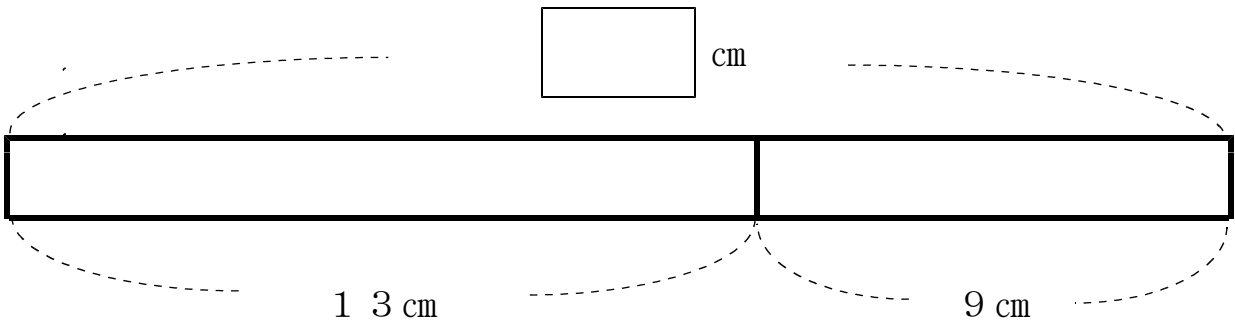
こた
答え $\boxed{}$ まい

2

 $\boxed{}$

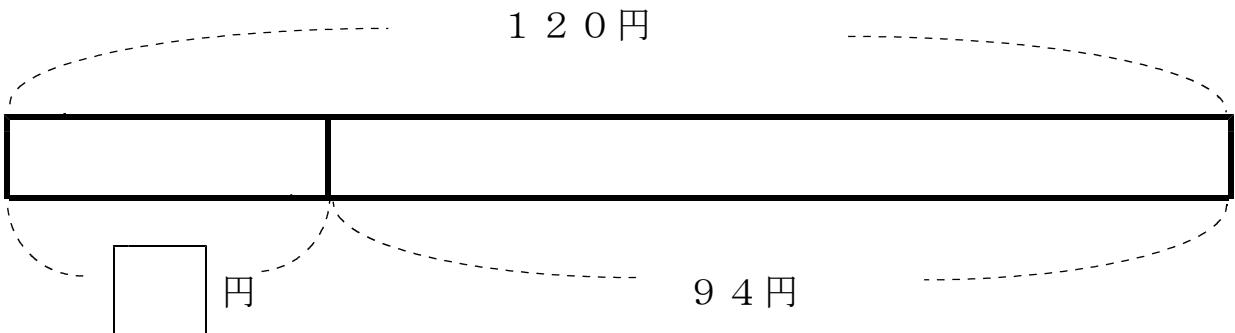
にあてはまる 数をもとめましょう。

(1)



(2)

こた
答え $\boxed{}$ c m



こた
答え $\boxed{}$ 円