


1 2 九九をつくろう

学 年		組		氏 名	
--------	--	---	--	--------	--

1 に あてはまる数を か書きましょう。

$$5 \times 3 = 5 \times 2 + \text{}$$


2 下の^ず図を見て かけ算のしきになる もんだいをつくり、しきと_{こた}答えを か書きましょう。




もんだい

しき

こた
答え

3  の数を くふうして もとめましょう。



(1) 2つに わけて もとめましょう。

しき

こた
答え

(2) あいている ところに ^{うご}動かして もとめましょう。

しき

こた
答え

(3) あとから ひいて もとめましょう。

しき

こた
答え