

| | | | | |
|---|--|---|--|----|
| <h1 style="margin: 0;">1 2 九九をつくろう</h1> | | | | |
| 学年 | | 組 | | 氏名 |

1 けいさん 計算を しましょう。

(1) 7×5

(2) 8×2

(3) 1×7

(4) 9×4

(5) 6×6

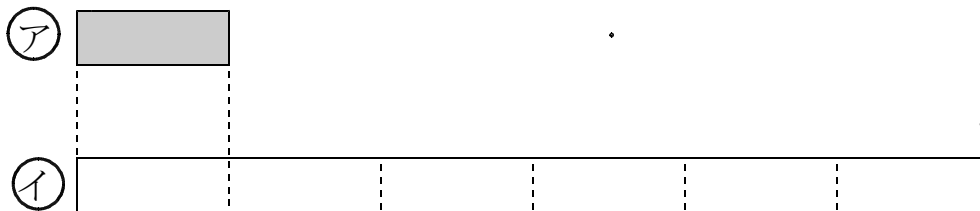
(6) 8×7

(7) 6×3

(8) 9×9

(9) 7×4

2 ㊦ と ㊩ の 2本のテープが あります。



(1) ㊩ のテープの長さは ㊦ のテープの 長さの 何ばいですか。

こた
答え

| |
|----|
| ばい |
|----|

(2) ㊦ のテープの 長さを 3 c m とすると ㊩ のテープの長さは 何 c m ですか。

しき


こた
答え

| |
|-----|
| c m |
|-----|

- 3 あめが 7こ入っている ふくろを 一人
1ふくろずつ 6人の ともだちに
プレゼントします。

あめは ぜんぶで 何こ いらいますか。

しき



こた
答え

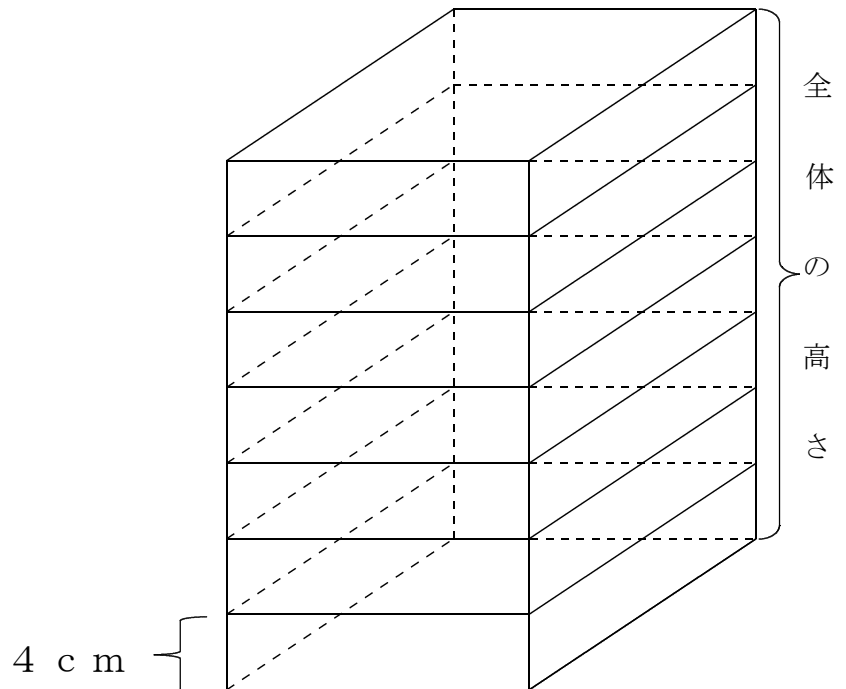
- 4 8の 4ばいは いくつですか。

しき

こた
答え

- 5 高さ 4 c m の つみ木を たてに 7こかさねると 全体の高さは
何 c m になりますか。

しき



こた
答え