


6 水のかさをはかってあらわそう

学年		組		氏名	
----	--	---	--	----	--

1 アの水そうに 入っていた水を イの水そうに うつしかえました。水のかさは かわるでしょうか。正しいほうに ○をつけましょう。

ア



イ



() かわる



() かわらない

2 としきさんの 水とうには コップで3ぱいの水が 入ります。さくらさんの 水とうには 同じコップで 4ぱいの水が 入ります。どちらが どれだけ 多く 入りますか。

さんの 水とうの ほうが

はいぶん 多く 入る。

3 ふたつの 水とうに、水が何ぱい入るか、同じコップで しらべました。
(1) ~ (2) の問題に 答えましょう。



(1) コップ1ぱいを 1 dL とすると、水は、それぞれ 何 dL 入りましたか。

アの水とう

イの水とう

(2) どちらの水とうに、水が 何 dL 多く 入っていますか。

の水とうに、水が

dL 多く 入っている。