


4 長さをはかってあらわそう

☆じゅんびぶつ：ものさし



学 年		組		氏 名	
--------	--	---	--	--------	--

1 あてはまる ことばや ^{すうじ}数字を 書きましょう。

(1) 1 c m は m m です。

(2) 1 c m が 6 つぶんの長さは です。

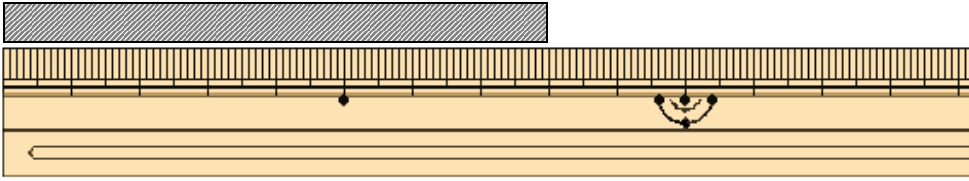
(3) 1 c m が 3 つぶんと 1 m m が 5 つぶんでは
 c m m m です。

(4) 4 c m 7 m m は m m です。

(5) 1 c m が 7 つぶんと 1 m m が 3 つぶんでは
 c m m m です。

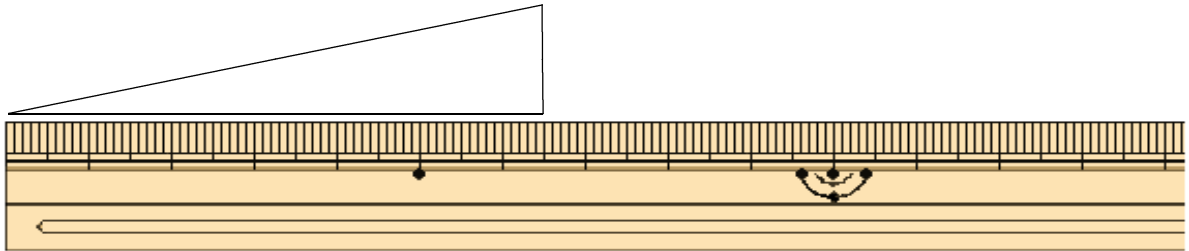
2 ^{なが}長さはどれだけですか。

(1)



()

(2)



()

3 つぎの もんだいに ^{こた}答えましょう。

(1) たろうさんの本は、たてが32cm、よこが19cm
です。この本のたてとよこの長さは何cmちがいます
か。

しき

^{こた}答え

(2) たかゆきさんはきのうリボンを33cmつかいました。
きょうは15cmつかいました。たかゆきさんは
リボンをぜんぶで何cmつかいましたか。

しき

^{こた}答え