

たしかめもんだい 2

学年		組		名前	
----	--	---	--	----	--

1 もんだいを読んで答えましょう。

赤い色紙を15まい，青い色紙を14まいもっています。
青い色紙を6まいもらいました。色紙はぜんぶで何まいになりましたか。



「ぼくは，同じ色の色紙をまとめて，1つのしきにしたよ。」

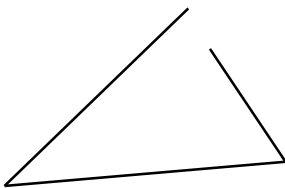
まことさんは，このもんだいを1つのしきにして考えました。
まことさんは どんなしきを立てたでしょうか。
()をつかったしきにあらわし 答えも もとめましょう。

(しき)

(答え) _____

2 三角形や四角形のもんだいに答えましょう。

(1) これは三角形ではありません。どうしてですか。わけをかきましょう。



(わけ)


(2) これは長方形ではありません。どうしてですか。



(わけ)


3 かけ算のもんだいに答えましょう。

右の図のように はこの中にまんじゅうが入っています。
かけ算をつかって、くふうして数えます。




- (1) どう考えたか分かるように 図やことばやしきであらわしましょう。
2つのほうほうで 考えてみましょう。

(1つ目)



(2つ目)



- (2) かけ算でとくことができるもんだいをつくりましょう。
もんだいをつくったら、しきと答えもかきましょう。

もんだいは文だけでも、絵を入れてもいいです。

(もんだい)

(しき)

(答え) _____