


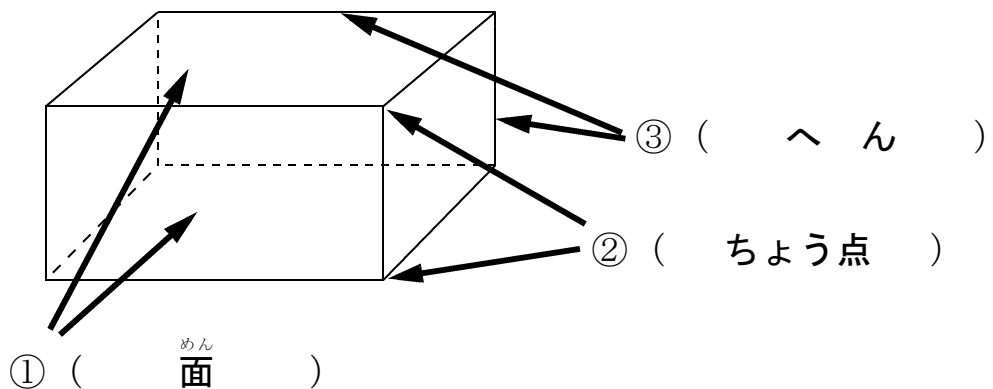
16 はこを作ろう

☆準備物：じょうぎ



学 年		組		氏 名	
--------	--	---	--	--------	--

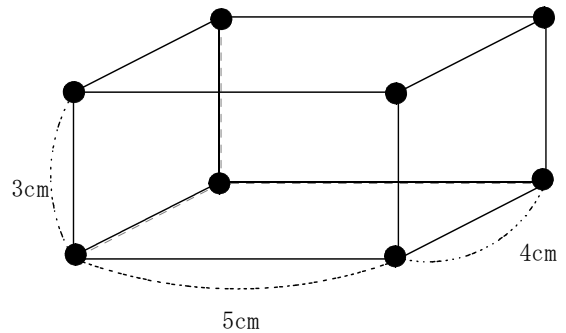
1 下の図の ①～③は それぞれ 何といますか。



2 ひごと ねん土玉 を使って、右の形のような はこの形 を 作ります。

(1) どんな長さの ひごを 何本ずつ 用意すれば よいですか。

- 3 cm のひごを 4 本
- 4 cm のひごを 4 本
- 5 cm のひごを 4 本



(2) ねん土玉は 何こ いらいますか。

(8 こ)

(3) この はこの形の 面は、何という四角形ですか。

(長 方 形)

(4) このはこの へんの 数は、いくつですか。

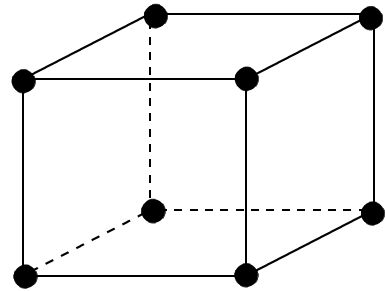
(1 2 本)

3 にあてはまる数を書きましょう。

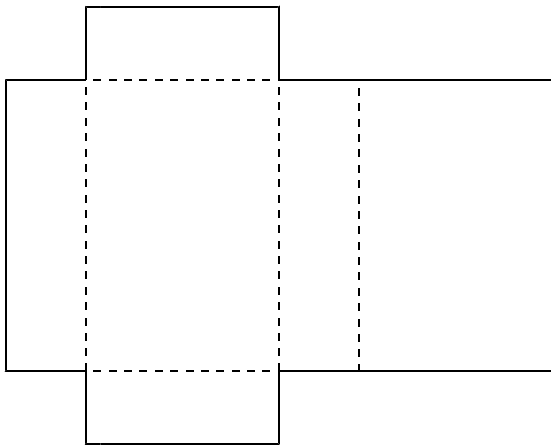
はこの形には、面が つ、へんが 本、ちょう点が つ
あります。

4 ひごとねん土玉で、右のようなさいころの形を作ろうと思います。

- (1) ねん土玉は、いくつ ありますか。
()
- (2) ひごは、何本 ありますか。
()
- (3) ひごの長さは、どうなっていますか。
()



5 下の図を組み立てると、①～③の どの はこの形になりますか。ばんごうに ○を
つけましょう。



へんの長さのちがいをよく見てください。

