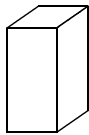
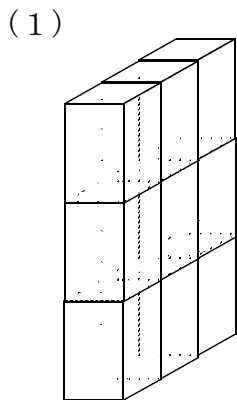


16 はこを作ろう

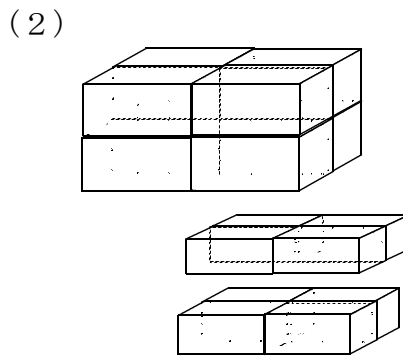
☆準備物：じょうぎ

学 年		組		氏 名	
--------	--	---	--	--------	--

1 下の図は、 がそれぞれ何個でできていますか。



(9個)

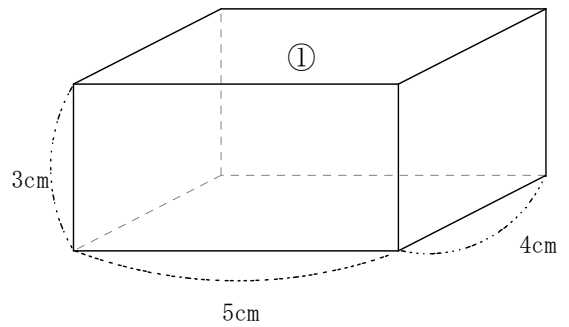
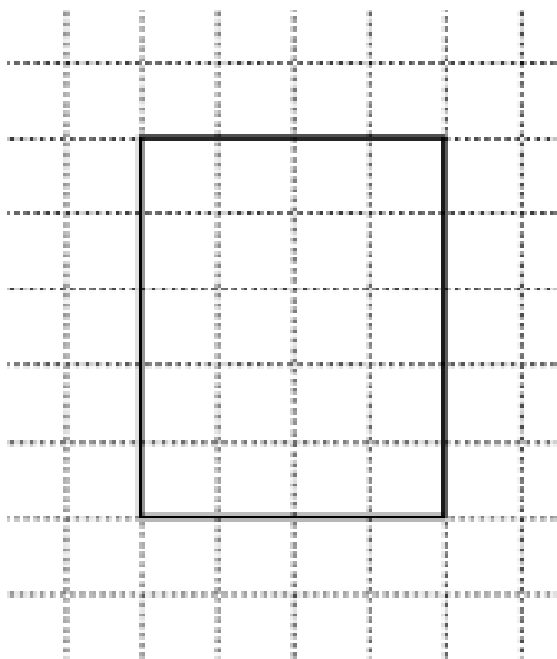


見えないところにも、あるよ。

(8個)

2 右の図のようなはこがあります。

(1) ①の面の形を、下の用紙に写しとりましょう。



1めもりは、1cm とします。