

15 図をつかって考える

学年		組		氏名	
----	--	---	--	----	--

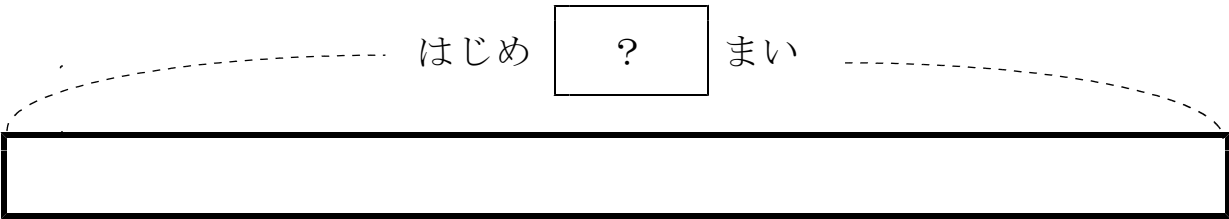
1 ^が画用紙が ^{なん}何まいか あります。8まい つかったの のこりが 12まいに なりました。

画用紙は、はじめ ^{なん}何まい ありましたか。

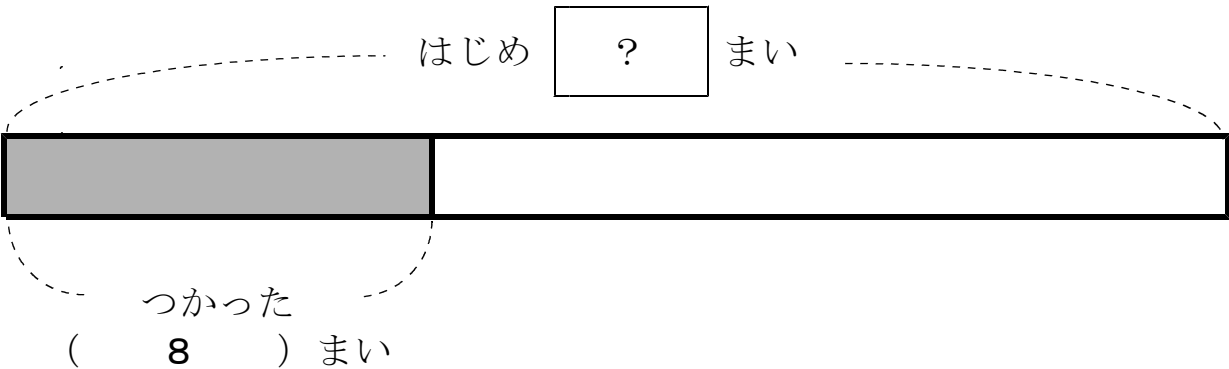
あきらさんは、^す図を書いて ^{こた}答えを もとめることにしました。

(1) ^が図の () に あてはまる数を ^か書きましょう。

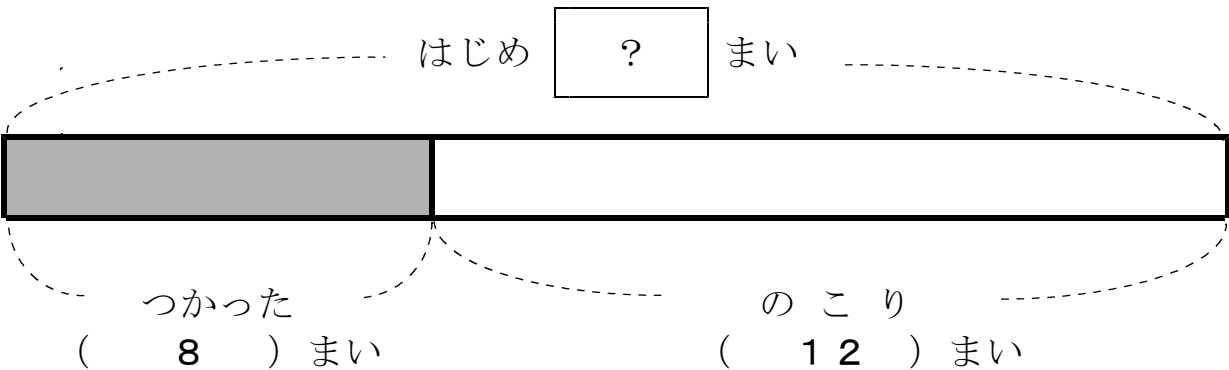
① ^が画用紙が 何まいか あります。



② 8まい つかったの の



③ のこりが 12まいに なりました



(2) はじめの 画用紙の数を もとめるしきは

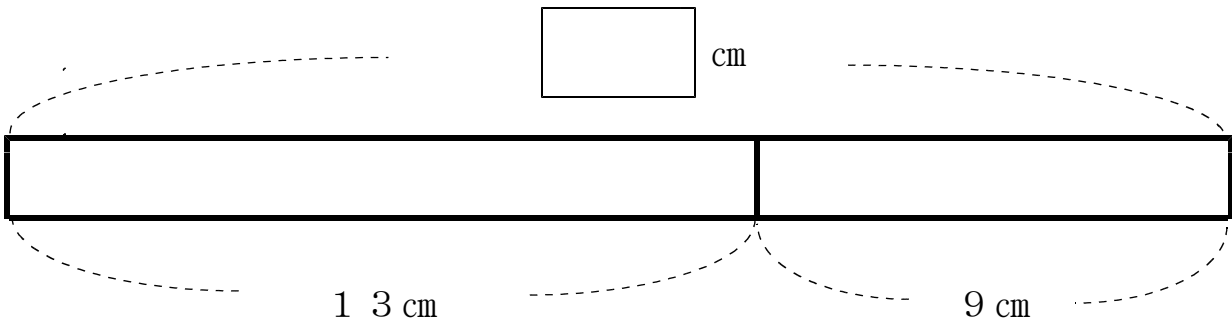
$$\boxed{8 + 12 = 20} = \boxed{20}$$

こたえ $\boxed{20}$ まい

2

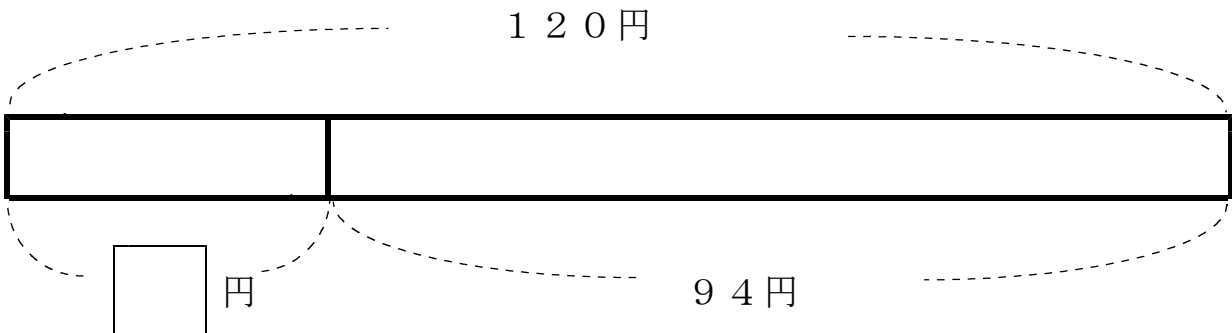
にあてはまる 数をもとめましょう。

(1)



こたえ $\boxed{22}$ cm

(2)



□円と94円をあわせたら、120円なので、
120円から94円をひけば、□がわかるよ。

こたえ $\boxed{26}$ 円