

<h1>1 2 かけ算</h1>				
学 年		組		氏 名


1 に あてはまる数を ^か書きましょう。

$$5 \times 3 = 5 \times 2 + \boxed{5}$$

$$\begin{aligned} 5 \times 1 &= 5 \\ 5 \times 2 &= 5 + 5 \\ 5 \times 3 &= 5 + 5 + \square \end{aligned}$$

5 × 2のこたえに
あといくつ たすと
5 × 3のこたえと
おなじかな。
□ = 5となります。

2 下の^ず図を見て かけ算のしきになる もんだいをつくり、しきと_{こた}答えを ^か書きましょう。



もんだい

一つの パックに たこやきが 8こ はいっています。
 同じ パックが 3つ あります。
 たこやきは ぜんぶで なんこ ありますか。

しき $8 \times 3 = 24$

8こで一つのまとまりになるように、もんだいをつくってみようね。


_{こた} 答え

24こ

3



の数を くふうして もとめましょう。



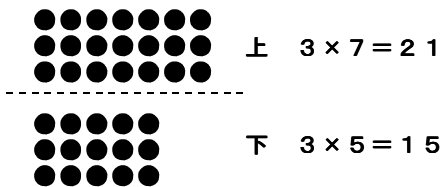
(1) 2つに わけて もとめましょう。

$$\begin{aligned} \text{しき} \quad & 3 \times 7 = 21 \\ & 3 \times 5 = 15 \\ & 21 + 15 = 36 \end{aligned}$$

こた
答え

36こ


上と下にわけてかんがえてみます。



上と下を合わせると
 $21 + 15 = 36$ となります。

そのほかにもこのようなかんがえかたもあります。

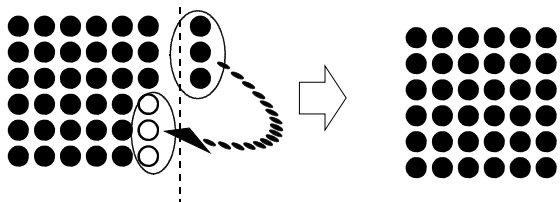
左と右にわけてかんがえてみます。



左と右を合わせると
 $30 + 6 = 36$ となります。

(2) あいているところに動かしてもとめましょう。

しき $6 \times 6 = 36$




こたえ
答え

36こ

(3) あとからひいてもとめましょう。

しき $7 \times 6 = 42$
 $2 \times 3 = 6$
 $42 - 6 = 36$

べつのしき
 $6 \times 7 = 42$
 $3 \times 2 = 6$
 $42 - 6 = 36$



こたえ
答え

36こ

ぜんぶをもとめてみよう。

$7 \times 6 = 42$
 となります。
 ×印の6つをひきます。
 $42 - 6 = 36$
 となります。