


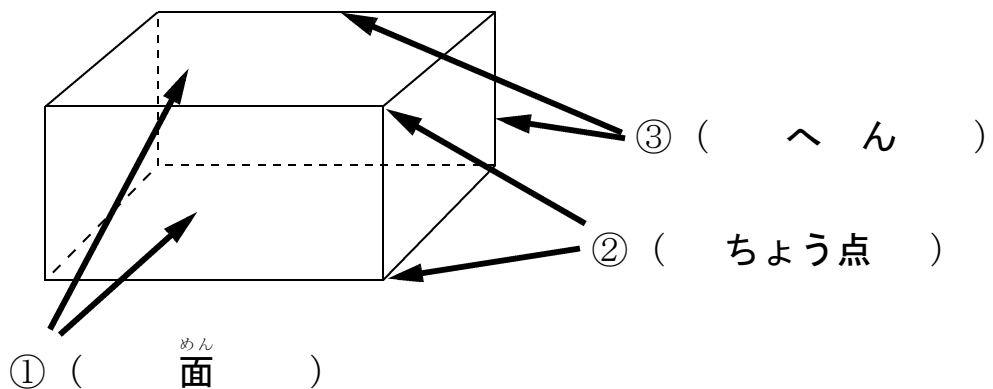
17 はこの形をしらべよう

☆準備物：じょうぎ



学年		組		氏名	
----	--	---	--	----	--

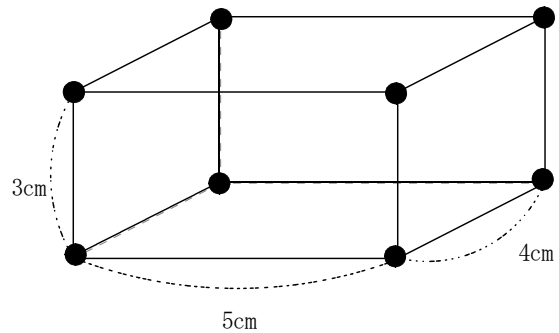
1 下の図の ①～③は それぞれ 何といますか。



2 ひごと ねん土玉 を使って、右の形のような はこの形を 作ります。

(1) どんな長さの ひごを 何本ずつ 用意すれば よいですか。

- 3 cm のひごを 4 本
- 4 cm のひごを 4 本
- 5 cm のひごを 4 本



(2) ねん土玉は 何こ いらいますか。

(8 こ)

(3) この はこの形の 面は、何という四角形ですか。

(長 方 形)

(4) このはこの へんの 数は、いくつですか。

(1 2 本)

3 にあてはまる数を書きましょう。

はこの形には、面が 6 つ、へんが 12 本、ちょう点が 8 つ

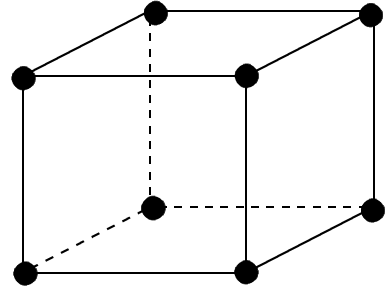
あります。

4 ひごとねん土玉で、右のようなさいころの形を作ろうと思います。

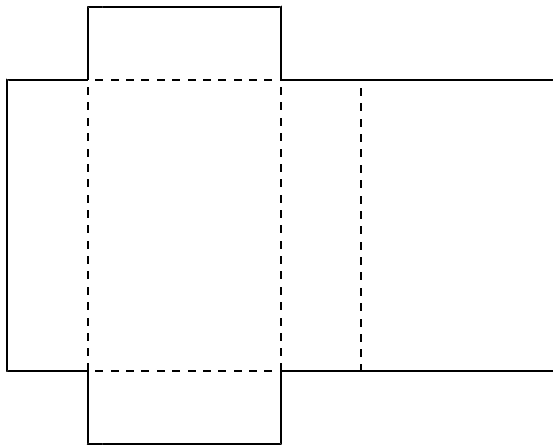
(1) ねん土玉は、いくつ ありますか。
(8 こ)

(2) ひごは、何本 ありますか。
(12 本)

(3) ひごの長さは、どうなっていますか。
(ぜんぶ同じ長さ)



5 下の図を組み立てると、①～③の どの はこの形になりますか。ばんごうに ○を つけましょう。



へんの長さのちがいをよく見てください。

