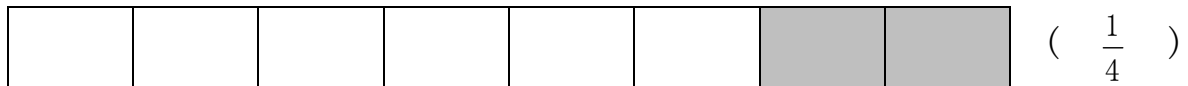
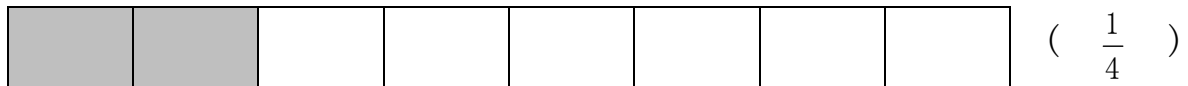







16 分けた 大きさの あらわし方を しらべよう





学 年		組		氏 名	
--------	--	---	--	--------	--

1 紙を おって 同じ大きさになるように くぎって あります。色をぬった
ところは、ぜんたいの 何分の一 ですか。



2  は  の $\frac{1}{2}$ です。  を
いくつ あつめると  になりますか。

(2こ)

3  は  の $\frac{1}{8}$ です。
 をいくつ あつめると  になります
か。

(8こ)


4 同じ大きさの紙を ① $\frac{1}{2}$ ② $\frac{1}{4}$ ③ $\frac{1}{8}$ になるように切りました。

1ばん小さいのは、何ばんの紙ですか。

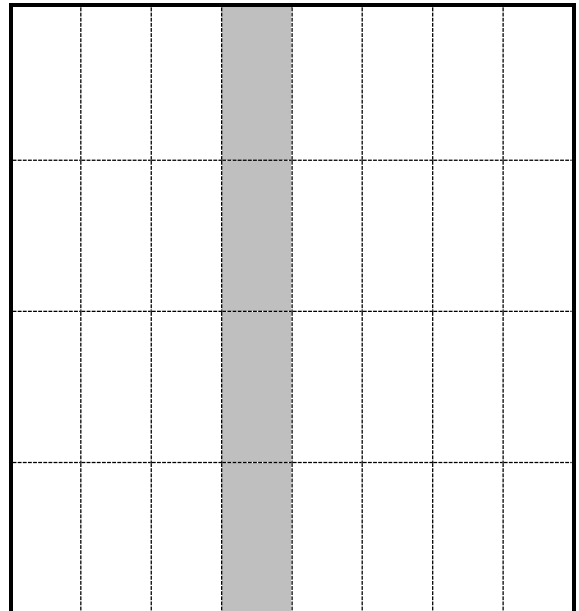
(③)

5 ケーキを下の絵のように同じ大きさになるよう切りました。食べたところに色をぬっています。

何分の一のケーキを食べましたか。



(八) 分の一



(八) 分の一