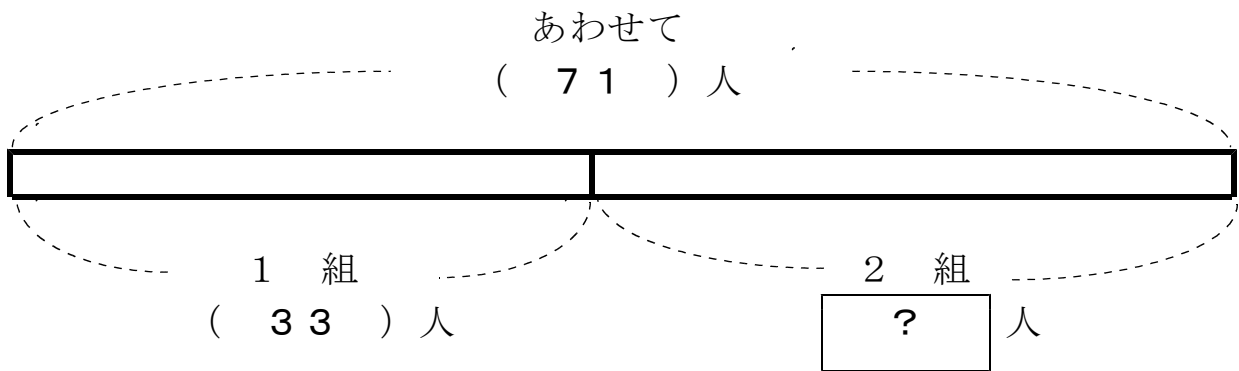


<b>15 図をつかって考えよう</b>			
学年		組	氏名

- 1 あきらさんの学校の2年生は1組と2組をあわせて71人います。1組は33人です。2組は何人ですか。  
 ( ) に数を書いて考えましょう。




しき  $71 - 33 = 38$

1組と2組をあわせて71人だから、  
 71人から1組の33人をひけば、  
 2組の人数が、わかるね。

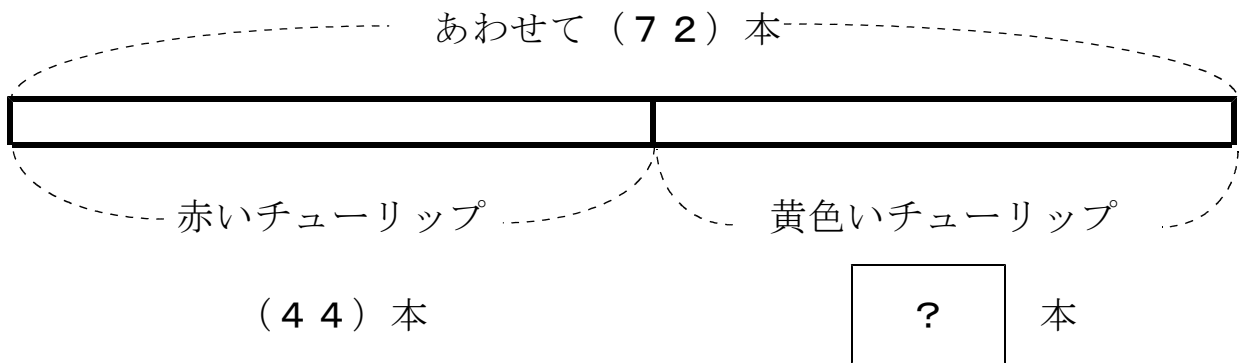
こた  
答え

<b>38人</b>
------------

- 2 赤いチューリップと黄色いチューリップがあわせて72本さいています。  
 そのうち赤いチューリップは44本です。



(1) 図の ( ) にあてはまる数を書きましょう。



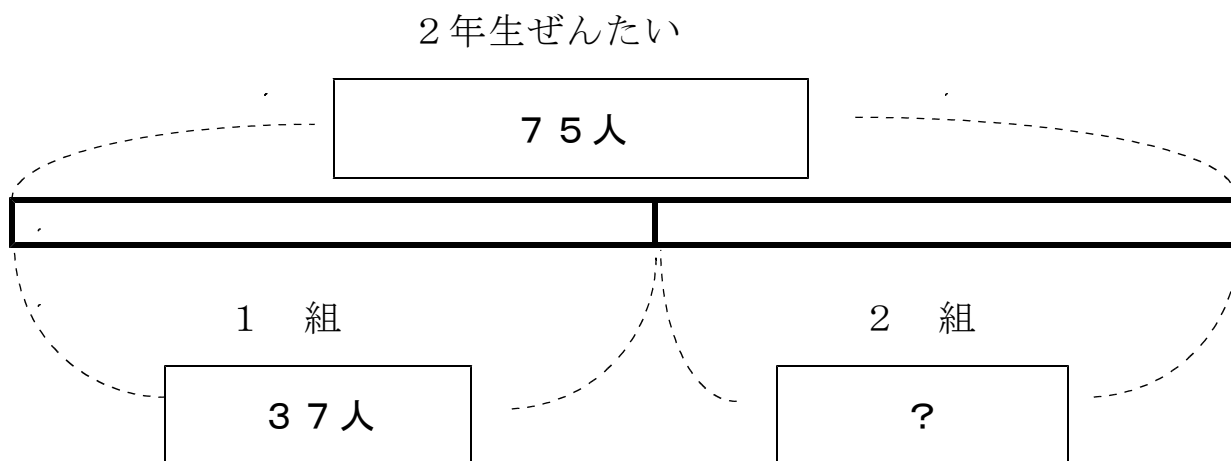
(2) 黄色いチューリップの本数をもとめるしきを<sup>か</sup>書きましょう。

$$72 - 44$$

赤と黄色をあわせて72本だから、  
72本から赤の44本をひけば、  
黄色の数が、わかるね。

- 3 2年生の、1組、2組をあわせると75人います。  
1組は37人です。2組は何人でしょうか。  
図としきを書いて答えをもとめましょう。

〈図〉



しき  $75 - 37 = 38$

1組と2組をあわせて75人だから、  
75人から1組の37人をひけば、  
2組の人数が、わかるね。

こた  
答え

38人