

<h1 style="margin: 0;">1 2 九九をつくろう</h1>				
学 年		組		氏 名


1  に あてはまる数を か書きましょう。

$$5 \times 3 = 5 \times 2 + \boxed{5}$$

$$\begin{aligned} 5 \times 1 &= 5 \\ 5 \times 2 &= 5 + 5 \\ 5 \times 3 &= 5 + 5 + \square \end{aligned}$$

5×2のこたえに  
あといくつ たすと  
5×3のこたえと  
おなじかな。  
□=5となります。

2 下の<sup>ず</sup>図を見て かけ算のしきになる もんだいをつくり、しきと  
こた答えを か書きましょう。



もんだい


一つの パックに たこやきが 8こ はいっています。  
同じ パックが 3つ あります。  
たこやきは ぜんぶで なんこ ありますか。


しき  $8 \times 3 = 24$

8こで一つのまとまりになるように、もんだいをつくってみようね。

こた  
答え

24こ

3  の数を くふうして もとめましょう。



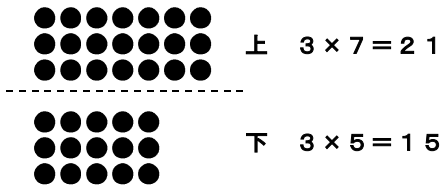
(1) 2つに わけて もとめましょう。

しき  $3 \times 7 = 21$   
 $3 \times 5 = 15$   
 $21 + 15 = 36$

こた  
 答え

36こ


上と下にわけてかんがえてみます。



上と下を合わせると  
 $21 + 15 = 36$  となります。

そのほかにもこのようなかんがえかたもあります。

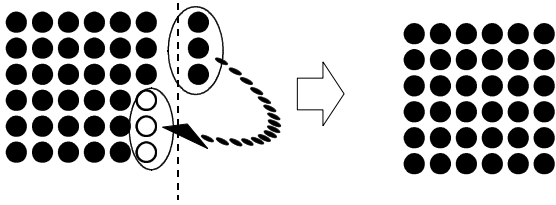
左と右にわけてかんがえてみます。



左と右を合わせると  
 $30 + 6 = 36$  となります。

(2) あいているところに動かしてもとめましょう。

しき  $6 \times 6 = 36$




こたえ  
答え

36こ

(3) あとからひいてもとめましょう。

しき  $7 \times 6 = 42$   
 $2 \times 3 = 6$   
 $42 - 6 = 36$

べつのしき  
 $6 \times 7 = 42$   
 $3 \times 2 = 6$   
 $42 - 6 = 36$



こたえ  
答え

ぜんぶをもとめてみよう。  
 $7 \times 6 = 42$   
 となります。  
 ×印の6つをひきます。  
 $42 - 6 = 36$   
 となります。

36こ