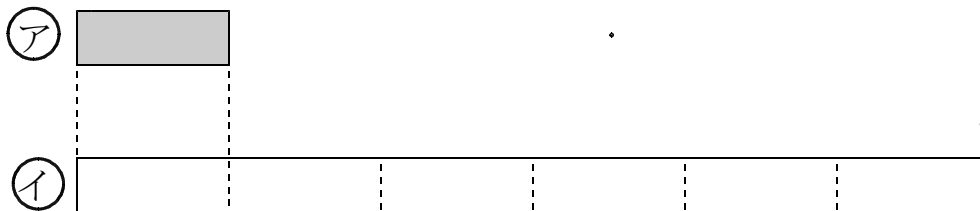


<h1>12 九九をつくろう</h1>				
学 年		組		氏 名

1 けいさん 計算を しましょう。

- | | | |
|--------------------------|--------------------------|--------------------------|
| (1)
$7 \times 5 = 35$ | (2)
$8 \times 2 = 16$ | (3)
$1 \times 7 = 7$ |
| (4)
$9 \times 4 = 36$ | (5)
$6 \times 6 = 36$ | (6)
$8 \times 7 = 56$ |
| (7)
$6 \times 3 = 18$ | (8)
$9 \times 9 = 81$ | (9)
$7 \times 4 = 28$ |

2 ㊦ と ㊩ の 2本のテープが あります。



(1) ㊩ のテープの長さは ㊦ のテープの 長さの 何ばいですか。

「㊩は、㊦のいくつぶんですか」ということです。
「何ばいですか」は、「いくつぶんですか」と同じみです。

こた
答え

6 ばい

(2) ㊦ のテープの 長さを 3 c m とすると ㊩ のテープの長さは 何 c m ですか。

しき $3 \times 6 = 18$


こた
答え

18 c m

- 3 あめが 7こ入っている ふくろを 一人 1ふくろずつ 6人の ともだちに プレゼントします。

あめは ぜんぶで 何こ いらいますか。

しき $7 \times 6 = 42$



こた
答え

42こ

- 4 8の 4ばいは いくつですか。

しき $8 \times 4 = 32$

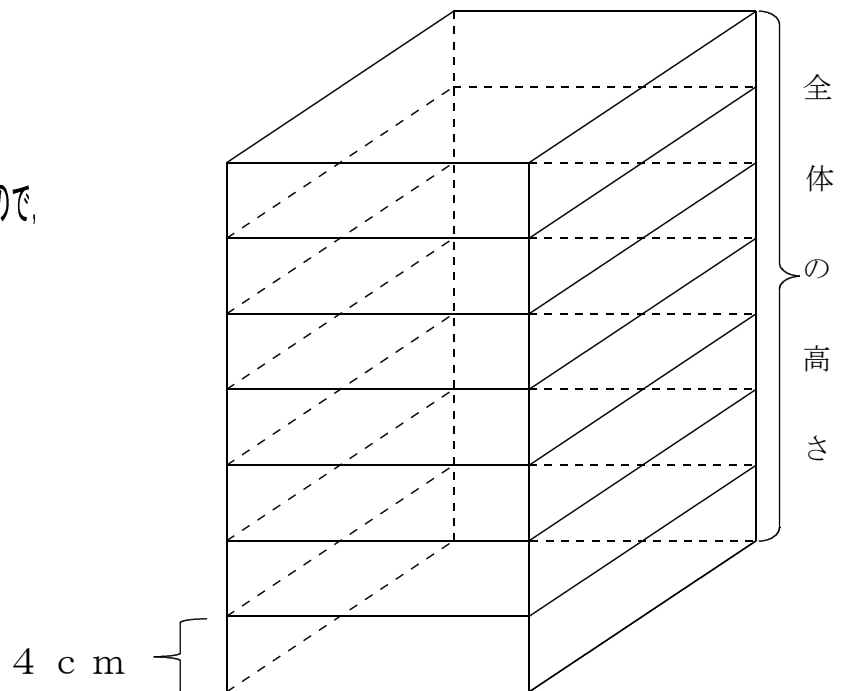
こた
答え

32

- 5 高さ 4 cm の つみ木を たてに 7こかさねると 全体の 高さは 何 cm になりますか。

しき $4 \times 7 = 28$

高さ 4 cm の つみ木が、たてに 7 だんになるので、
 $4 + 4 + 4 + 4 + 4 + 4 + 4 = 28$
 となります。だから、
 $4 \times 7 = 28$
 となります。



こた
答え

28 cm