


6 水のかさを はかって あらわそう



学 年		組		氏 名	
--------	--	---	--	--------	--

1 の中に、あてはまることばを入れましょう。

(1) かさをしらべるには、1 dL のますや1 L のます、

1 mL のますを使うとべんりです。


(2) やかんに入っている水のかさをしらべるときは、1 L ます、

目ぐすりのかさをしらべるときは、1 mL ます、ペットボトルに入っ


ているジュースのかさをしらべるときは、1 dL ますを使うと、べんりです。

2 水のかさは、どれだけですか。

(1)



(2)



3 やかんに入っている水のかさをはかったら、1 L のますで1ぱいと、1 d L のますで7はいありました。(1)と(2)のもんだいに答えましょう。

(1) 水のかさは、何L何d Lですか。

1 L 7 d L

(2) その水のかさを、1 d Lのますだけではかると、何ぱいぶんになりますか。

17 d L

4 の中に、あてはまるたんいを書きましょう。

(1) ペットボトルに入っているジュースのかさ

500

d L

(2) 家のお風呂に入る水のかさ

250

L

(3) きゅうしょくの牛にゆう1パックのかさ

200

m L

5

の中に、あてはまる数を書きましょう。

$$(1) 1 \text{ L} = \boxed{10} \text{ dL}$$

$$(2) 1 \text{ L } 5 \text{ dL} = \boxed{15} \text{ dL}$$

$$(3) 50 \text{ dL} = \boxed{5} \text{ L}$$

$$(4) 38 \text{ dL} = \boxed{3} \text{ L } \boxed{8} \text{ dL}$$

$$(5) 3 \text{ dL} = \boxed{300} \text{ mL}$$

$$(6) 400 \text{ mL} = \boxed{4} \text{ dL}$$

$$(7) 5 \text{ L} = \boxed{5000} \text{ mL}$$

$$(8) 7600 \text{ mL} = \boxed{7} \text{ L } \boxed{6} \text{ dL}$$

6 つぎのかさを，大きいほうからじゅんに書きましょう。

(1) 2 L 15 d L 105 mL 1 L 7 d L

2 L, 1 L 7 d L, 15 d L, 105 mL

(2) 1 L 90 d L 90 mL 9 d L

90 d L, 1 L, 9 d L, 90 mL

(3) 103 d L 13 L 1300 mL 1 L 30 d L

13 L, 103 d L, 1 L 30 d L, 1300 mL

7 ジュースが，ペットボトルに5 d L，かみパックに7 d L 入っています。(1)～(2)のもんだいに答えましょう。

(1) あわせると，かさは何L何d Lですか。計算でもとめましょう。

<しき> $5 + 7 = 12$

答え (1 L 2 d L)

(2) ちがいは，何d Lですか。計算でもとめましょう。

<しき> $7 - 5 = 2$

答え (2 d L)