


5 100より大きい数をしらべよう

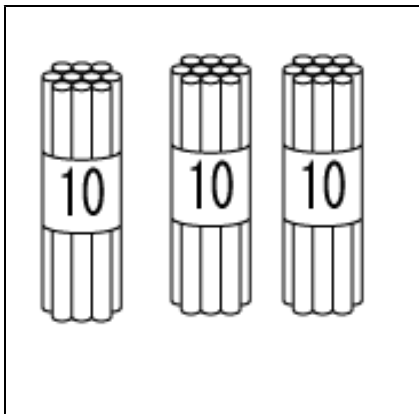


学 年		組		氏 名	
--------	--	---	--	--------	--

1 ^{かぞ} 数えぼうは、ぜんぶで 何本ありますか。

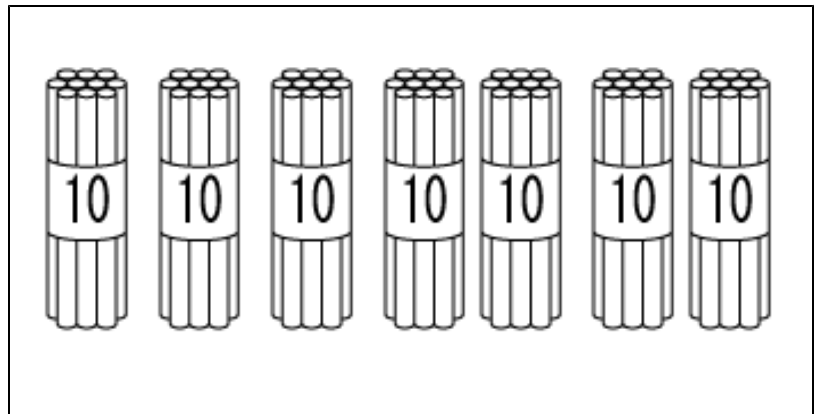
(1)

(2)



^{こた} 答え

本



^{こた} 答え

本

2 ^{けいさん} 計算を しましょう。

(1) $20 + 30 =$

(2) $30 + 40 =$

(3) $70 + 30 =$

(4) $20 + 80 =$

- 3 学校には、白いボールが 20こ、^{きいろ}黄色いボールが 50こ あります。ボールは ぜんぶで 何こありますか。

しき $20 + 50 = 70$

^{こた}答え

70

こ

- 4 ^{けいさん}計算をしましょう。

(1) $30 - 10 =$

20

(2) $60 - 20 =$

40

(3) $90 - 40 =$

50

(4) $70 - 30 =$

40

(5) $100 - 70 =$

30

- 5 ^{いろがみ}色紙が 100まいあります。40まい つかうと のこりは 何まいですか。

しき $100 - 40 = 60$

^{こた}答え

60

まい