


4 長さをはかって あらわそう

☆じゅんびぶつ：ものさし



学 年		組		氏 名	
--------	--	---	--	--------	--

1 あてはまる ことばや ^{すうじ}数字を 書きましょう。

(1) 1 c m は m m です。

(2) 1 c m が 6 つぶんの長さは です。

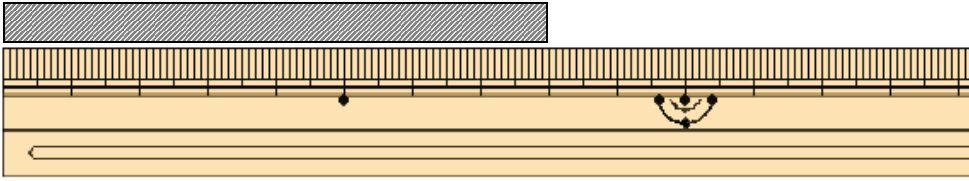
(3) 1 c m が 3 つぶんと 1 m m が 5 つぶんでは
 c m m m です。

(4) 4 c m 7 m m は m m です。

(5) 1 c m が 7 つぶんと 1 m m が 3 つぶんでは
 c m m m です。

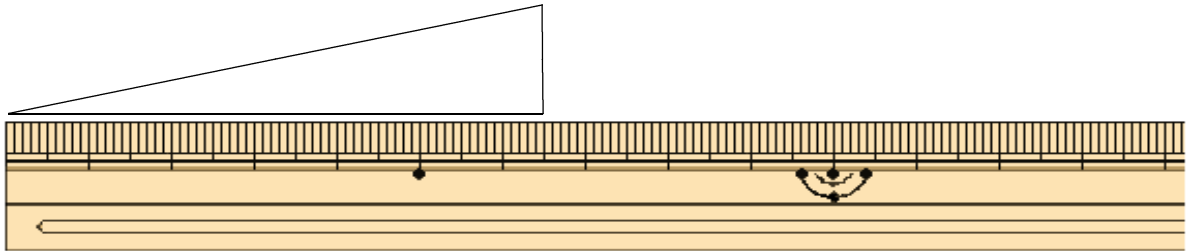
2 ^{なが}長さはどれだけですか。

(1)



(8 c m)

(2)



(6 c m 5 m m)

3 つぎの もんだいに ^{こた}答えましょう。

(1) たろうさんの本は、たてが 3 2 c m、よこが 1 9 c m
です。この本の たてと よこの長さは 何 c m ちがいます
か。

しき $32 - 19 = 13$

^{こた}答え

1 3 c m

(2) たかゆきさんはきのうリボンを 3 3 c m つかいました。
きょうは 1 5 c m つかいました。たかゆきさんは
リボンを ぜんぶで 何 c m つかいましたか。

しき $33 + 15 = 48$

^{こた}答え

4 8 c m